



1. Un dado con le sei facce numerate da 1 a 6 è sbilanciato, ovvero la probabilità della faccia i -esima è proporzionale a i .

1) Calcolare la probabilità di ciascuna delle sei facce.

La probabilità della faccia i -esima è pari a $P(i) = ki$. Possiamo ottenere il valore di k imponendo la condizione di normalizzazione:

$$\sum_{i=1}^6 P(i) = \sum_{i=1}^6 ki = k \sum_{i=1}^6 i = 21k = 1$$

Da cui otteniamo

$$k = \frac{1}{21}$$

che fornisce:

$$P(1) = \frac{1}{21} \quad P(2) = \frac{2}{21} \quad P(3) = \frac{3}{21} \quad P(4) = \frac{4}{21} \quad P(5) = \frac{5}{21} \quad P(6) = \frac{6}{21}$$

Il dado viene lanciato più volte.

2) Calcolare la probabilità che nei primi tre lanci si abbia un risultato alto (cioè ≥ 4) esattamente due volte ed almeno 2 volte.

La probabilità di avere un risultato ≥ 4 in un lancio è data dalla somma delle probabilità

$$p = P(i \geq 4) = P(4) + P(5) + P(6) = \frac{4+5+6}{21} = \frac{15}{21} \quad e \quad q = 1 - p$$

La probabilità di ottenere esattamente due volte o almeno due volte sono date dalla somma delle combinazioni favorevoli:

$$P(\text{esattamente } 2x) = 3p^2q = 3 \cdot \left(\frac{15}{21}\right)^2 \cdot \frac{6}{21} = \frac{4050}{9261} = \frac{1350}{3087}$$

$$P(\text{almeno } 2x) = 3p^2q + p^3 = p^2(3q + p) = \left(\frac{15}{21}\right)^2 \frac{33}{21} = \frac{7425}{9261} = \frac{2475}{3261}$$

3) Calcolare la probabilità condizionata che nei primi n lanci si abbia esattamente $n - 1$ volte un risultato alto, sapendo che esso si è avuto almeno $n - 1$ volte.

La probabilità di avere $n - 1$ risultati alti su n lanci è, nei due casi:

$$P(\text{esattamente } (n-1)x \text{ su } n) = np^{n-1}q$$

$$P(\text{almeno } (n-1)x \text{ su } n) = np^{n-1}q + p^n = p^{n-1}(nq + p)$$

La probabilità condizionata si ottiene dal rapporto:

$$P(\text{esattamente } (n-1)x \text{ su } n | \text{almeno } (n-1)x \text{ su } n) = \frac{P(\text{esattamente } (n-1)x \text{ su } n)}{P(\text{almeno } (n-1)x \text{ su } n)} = \frac{np^{n-1}q}{p^{n-1}(nq + p)} = \frac{nq}{(nq + p)}$$

2. Riportare correttamente le cifre significative e calcolare le incertezze relative delle seguenti misure di grandezze fisiche:

$$\begin{aligned} \ell &= 3.4575 \pm 0.01260 \text{ m} \quad \rightarrow \quad \ell = 3.458 \pm 0.013 & \Delta\ell/\ell &= 0.004 \\ S &= 12534 \pm 593 \text{ cm}^2 \quad \rightarrow \quad S = (12.53 \pm 0.59) \times 10^3 \text{ cm}^2 & \Delta S/S &= 0.047 \\ T &= 1.4299 \pm 0.01021 \text{ s} \quad \rightarrow \quad T = 1.430 \pm 0.010 \text{ s} & \Delta T/T &= 0.007 \end{aligned}$$

Scrivere le formule da utilizzare e determinare valore e incertezza di $V = \ell \cdot S$ assumendo che:

a) le incertezze su ℓ e S siano massime

$$V = \ell \cdot S = 3.458 \times 1.253 = 4.33 \pm 0.20 \text{ m}^3 \quad \Delta V = \left| \frac{\partial V}{\partial \ell} \right|_{V=V_{\text{mis}}} \Delta \ell + \left| \frac{\partial V}{\partial S} \right|_{V=V_{\text{mis}}} \Delta S = S \Delta \ell + \ell \Delta S$$

b) le incertezze su ℓ e S siano statistiche

$$\sigma_V^2 = \left(\frac{\partial V}{\partial \ell} \right)_{V=V_{\text{mis}}}^2 \sigma_\ell^2 + \left(\frac{\partial V}{\partial S} \right)_{V=V_{\text{mis}}}^2 \sigma_S^2 = S^2 \sigma_\ell^2 + \ell^2 \sigma_S^2 \quad V = 4.33 \pm 0.20 \text{ m}^3$$

c) l'incertezza su ℓ sia massima e l'incertezza su S sia statistica

Se ℓ è massima e S è statistica l'incertezza relativa è maggiore su S e quindi trasformo l'errore di ℓ in errore statistico

$\sigma_\ell = \Delta\ell/\sqrt{3}$ ed applico b)

Quale misura andrebbe migliorata per diminuire l'incertezza su V ?

quella sulla superficie S

3. Calcolare valore e incertezza delle seguenti grandezze fisiche:

$$\begin{aligned} A &= \pi R^2 & R &= 6.0043 \pm 0.0007 \text{ cm} & A &= (113.257 \pm 0.026) \text{ cm}^2 \\ v &= \ell/t & \ell &= 1.23 \pm 0.02 \text{ m} \quad t &= 4.23 \pm 0.07 & v &= (0.29 \pm 0.01) \text{ m/s} \\ \alpha &= \tan^{-1}(x/y) & x &= 10.4 \pm 0.1 \text{ cm} \quad y &= 2.440 \pm 0.005 \text{ m} & \alpha &= (0.0426 \pm 0.0005) \text{ rad} \\ \Delta\alpha &= \frac{1}{1 + (x/y)^2} \left[\frac{\Delta x}{y} + \frac{x}{y^2} \Delta y \right] & & & \alpha &= 2.44 \pm 0.03 \text{ deg} \end{aligned}$$

4. La velocità di un oggetto è stata misurata (nelle stesse condizioni) con 3 metodi diversi ottenendo i risultati:

$$v_1 = 234 \pm 4 \text{ m/s}; \quad v_2 = (2.39 \pm 0.03) \cdot 10^2 \text{ m/s}; \quad v_3 = 231 \pm 8 \text{ m/s}.$$

Fornire una rappresentazione grafica dei risultati e

dire se le tre misure sono compatibili nel caso di

- incertezze massime: **compatibili**

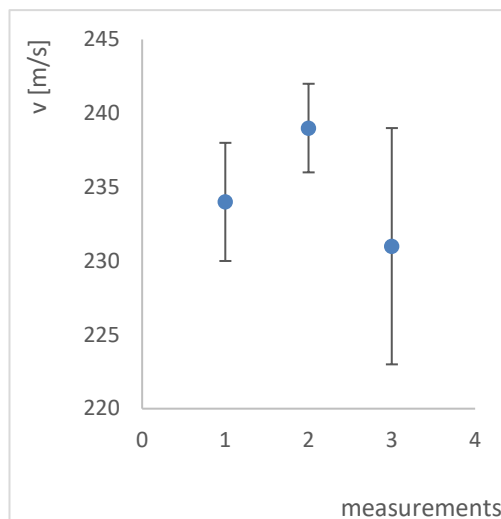
- incertezze statistiche: **compatibili**

Combinare, se possibile, le tre misure per ottenere un unico valore e la corrispondente incertezza (scrivere anche le formule utilizzate):

nel caso di incertezze statistiche si può usare la media pesata:

$$v = \frac{\sum_{i=1}^3 \frac{v_i}{\sigma_i^2}}{\sum_{i=1}^3 \frac{1}{\sigma_i^2}} \quad e \quad \sigma^2 = \frac{1}{\sum_{i=1}^3 \frac{1}{\sigma_i^2}}$$

Che fornisce: $v = 237 \pm 2 \text{ m/s}$. Nel caso di errori Massimi uso la 2° misura.



5. Tra le grandezze fisiche X e Y si ipotizza esista la relazione: $Y = mX^2 + q$. Si hanno a disposizione le seguenti misure di X e Y: (2.10,1.74), (5.22,3.1), (9.41,5.7), (29.86,11.8), (48.39,18.7), con incertezze massime $\Delta X = 0.01$ e $\Delta Y = 0.1 \cdot Y$.

- a) Determinare i valori di m e di q, ed i corrispondenti errori (formule)

Esprimo i risultati di m_i e q_i usando la prima misura come 0 e scrivendo:

$$\begin{cases} Y_0 = mX_0^2 + q \\ Y_i = mX_i^2 + q \end{cases}$$

Che mi permette di ottenere i diversi valori di m_i e q_i con $i = 1, \dots, 4$

$$Y_i - Y_0 = m_i(X_i^2 - X_0^2) \quad \frac{Y_i - q_i}{Y_0 - q_i} = \frac{X_i^2}{X_0^2}$$

Da cui ottengo

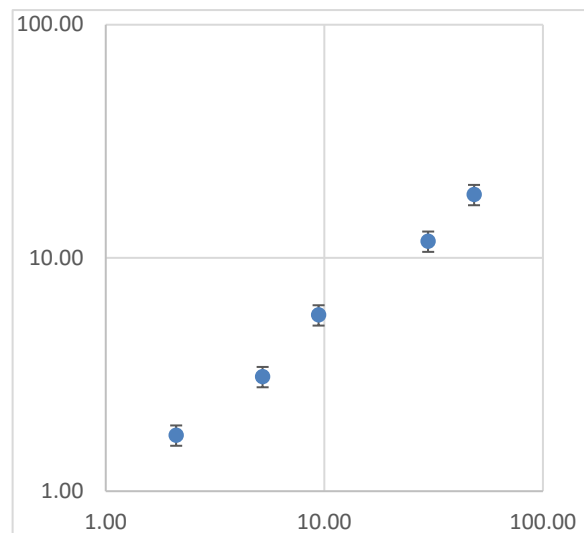
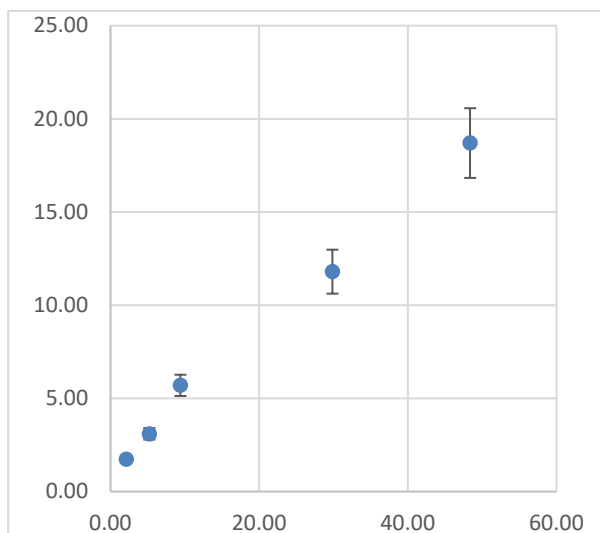
$$m_i = \frac{Y_i - Y_0}{X_i^2 - X_0^2} \quad q_i = \frac{Y_i X_0^2 - Y_0 X_i^2}{X_0^2 - X_i^2}$$

Gli errori sono calcolati usando la legge di propagazione degli errori massimi:

$$\Delta m_i = \frac{1}{|X_i^2 - X_0^2|} (\Delta Y_i + \Delta Y_0) + \left| \frac{2X_i}{(X_i^2 - X_0^2)^2} \right| \Delta X_i + \left| \frac{2X_0}{(X_i^2 - X_0^2)^2} \right| \Delta X_0$$

$$\Delta q_i = \frac{X_0^2}{|X_0^2 - X_i^2|} \Delta Y_i + \frac{X_i^2}{|X_0^2 - X_i^2|} \Delta Y_0 + \left| \frac{2X_0 Y_i}{X_0^2 - X_i^2} - \frac{2X_0^3 Y_i}{(X_0^2 - X_i^2)^2} \right| \Delta X_0 + \left| -\frac{2X_i Y_0}{X_0^2 - X_i^2} - \frac{2X_i^3 Y_0}{(X_0^2 - X_i^2)^2} \right| \Delta X_i$$

- b) Riportare i valori misurati in grafici con scala lineare e log-log, commentare l'accordo con l'andamento previsto e con eventuali altri andamenti



L'andamento di Y in funzione di X sembra lineare sia in scala lineare che in scala log-log e non è in accordo con un andamento del tipo $Y = mX^2 + q$. In particolare in scala log-log non ho nessuna pendenza doppia, come dovrei avere nel caso $\log(Y - q) = 2 \log X + \log m$.

6. La variabile casuale $x \geq 0$ ha funzione di distribuzione $f(x) = a e^{-2x}$.

a) Calcolare il valore di a

Impongo la condizione di normalizzazione:

$$\int_0^{\infty} f(x) dx = 1 \implies a \int_0^{\infty} e^{-2x} dx = -\frac{a}{2} \int_0^{\infty} de^{-2x} = -\frac{a}{2} (e^{-2x})|_0^{\infty} \quad o \quad a = 2$$

b) Calcolare valore medio μ e deviazione standard σ

$$\mu = \int_0^{\infty} 2x e^{-2x} dx$$

Ma

$$d(xe^{-2x}) = e^{-2x} dx + x d(e^{-2x}) = e^{-2x} dx - 2xe^{-2x} dx$$

o, girando:

$$2xe^{-2x} dx = e^{-2x} dx - d(xe^{-2x})$$

Che fornisce:

$$\mu = \int_0^{\infty} 2x e^{-2x} dx = \int_0^{\infty} e^{-2x} dx - (xe^{-2x})|_0^{\infty} = \frac{1}{2}$$

Ricordando poi che:

$$\sigma^2 = E[x^2] - \mu^2$$

Posso calcolare

$$E[x^2] = \int_0^{\infty} 2x^2 e^{-2x} dx$$

Posso anche in questo caso calcolare il differenziale

$$d(x^2 e^{-2x}) = 2x e^{-2x} dx + x^2 d(e^{-2x}) = 2x e^{-2x} dx - 2x^2 e^{-2x} dx$$

o, girando:

$$2x^2 e^{-2x} dx = 2x e^{-2x} dx - d(x^2 e^{-2x})$$

Che fornisce:

$$E[x^2] = \int_0^{\infty} 2x^2 e^{-2x} dx = \int_0^{\infty} 2x e^{-2x} dx - (x^2 e^{-2x})|_0^{\infty} = \frac{1}{2}$$

Da cui:

$$\sigma^2 = E[x^2] - \mu^2 = \frac{1}{2} - \frac{1}{4} = \frac{1}{4} \quad o \quad \sigma = \frac{1}{2}$$

c) Calcolare $P(|x - \mu| \geq \sigma)$ e commentare il risultato

Riuso l'integrazione in a)

$$2 \int_1^{\infty} e^{-2x} dx = - \int_1^{\infty} de^{-2x} = -(e^{-2x})|_1^{\infty} = e^{-2} = 0.136$$

Nel caso di distribuzione gaussiana, la probabilità che un evento cada a più di 1σ dal valore vero è di più del 31%. In questo caso il valore della coda della distribuzione è di solo il 14%, quindi circa 1/3 di quello gaussiano.

1. Il dado A ha 4 facce rosse e 2 facce bianche, mentre il dado B ha 2 facce rosse e 4 facce bianche. Si lancia una sola volta una moneta non truccata. Se esce testa, il gioco continua con il dado A; se esce croce si usa il dado B.

1) Mostrare che la probabilità che la faccia sia rossa a ogni lancio è 0,5.

Indichiamo con R_n l'evento "all'n-esimo lancio del dado esce faccia rossa" e, ovviamente, con T l'evento "la moneta ha dato testa". Ovviamente, per ogni n (e quindi ad ogni lancio) si ha $P(R_n|T) = \frac{4}{6} = \frac{2}{3}$ e $P(R_n|C) = \frac{2}{6} = \frac{1}{3}$ per cui:

$$P(R_n) = P(R_n|T) \cdot P(T) + P(R_n|C) \cdot P(C) = \frac{2}{3} \cdot \frac{1}{2} + \frac{1}{3} \cdot \frac{1}{2} = \frac{2}{6} + \frac{1}{6} = \frac{3}{6} = \frac{1}{2}$$

Se nei primi due lanci si ottiene il rosso, qual è la probabilità al terzo lancio?

2) che venga rosso

Se si verifica l'evento T si ha quindi:

$$P(R_1 \cap R_2 | T) = \left(\frac{2}{3}\right)^2 = \frac{4}{9} \quad P(R_1 \cap R_2 \cap R_3 | T) = \left(\frac{2}{3}\right)^3 = \frac{8}{27}$$

Analogamente per l'evento C si ha:

$$P(R_1 \cap R_2 | C) = \left(\frac{1}{3}\right)^2 = \frac{1}{9} \quad P(R_1 \cap R_2 \cap R_3 | C) = \left(\frac{1}{3}\right)^3 = \frac{1}{27}$$

Da cui posso calcolare $P(R_1 \cap R_2)$:

$$P(R_1 \cap R_2) = P(R_1 \cap R_2 | T) \cdot P(T) + P(R_1 \cap R_2 | C) \cdot P(C) = \frac{4}{9} \cdot \frac{1}{2} + \frac{1}{9} \cdot \frac{1}{2} = \frac{5}{18}$$

e

$$P(R_1 \cap R_2 \cap R_3) = P(R_1 \cap R_2 \cap R_3 | T) \cdot P(T) + P(R_1 \cap R_2 \cap R_3 | C) \cdot P(C) = \frac{8}{27} \cdot \frac{1}{2} + \frac{1}{27} \cdot \frac{1}{2} = \frac{9}{54} = \frac{3}{18}$$

Possiamo ora calcolare la probabilità che esca rosso al terzo lancio se è uscito rosso ai primi due lanci:

$$P(R_3 | R_1 \cap R_2) = \frac{P(R_1 \cap R_2 \cap R_3)}{P(R_1 \cap R_2)} = \frac{\frac{3}{18}}{\frac{5}{18}} = \frac{3}{5}$$

3) Se nei primi due lanci si ottiene il rosso, qual è la probabilità che sia stato usato il dado A?

Infine risolvo l'ultimo quesito usando il teorema di Bayes (probabilità delle cause):

$$P(T | R_1 \cap R_2) = \frac{P(R_1 \cap R_2 | T) \cdot P(T)}{P(R_1 \cap R_2)} = \frac{\frac{4}{9} \cdot \frac{1}{2}}{\frac{5}{18}} = \frac{4}{5} \cdot \frac{18}{18} = \frac{4}{5}$$

2. La variabile casuale $x \geq 0$ può assumere valori nell'intervallo $(0,3)$ e ha funzione di distribuzione.

$$f(x) = \begin{cases} ax & \text{se } 0 < x \leq 1 \\ a(3-x)/2 & \text{se } 1 < x < 3 \end{cases}$$

a) Calcolare il valore di a

$$F(x) = \begin{cases} \frac{a}{2}x^2 & \text{se } 0 < x \leq 1 \\ \frac{3a}{2}x - \frac{a}{4}x^2 & \text{se } 1 < x < 3 \end{cases} \quad \text{fornisce un valore di } a \text{ per la condizione di normalizzazione pari a } a = \frac{2}{3}$$

b) Calcolare valore medio μ e deviazione standard σ

$$\begin{aligned} \mu &= \frac{2}{3} \left[\int_0^1 x^2 dx + \int_1^3 \frac{1}{2}(3x - x^2) dx \right] = \frac{2}{3} \left[\frac{x^3}{3} \Big|_0^1 + \frac{3x^2}{4} \Big|_1^3 - \frac{x^3}{6} \Big|_1^3 \right] = \frac{2}{3} \left[\frac{1}{3} + \frac{27}{4} - \frac{3}{4} - \frac{27}{6} + \frac{1}{6} \right] \\ &= \frac{2}{3} \frac{24 + 81 - 9 - 54 + 2}{12} = \frac{2 \cdot 24}{3 \cdot 12} = \frac{4}{3} \\ \sigma^2 &= E[x^2] - \mu^2 \end{aligned}$$

$$\begin{aligned} E[x^2] &= \frac{2}{3} \left[\int_0^1 x^3 dx + \int_1^3 \frac{1}{2}(3x^2 - x^3) dx \right] = \frac{2}{3} \left[\frac{x^4}{4} \Big|_0^1 + \frac{3x^3}{6} \Big|_1^3 - \frac{x^4}{8} \Big|_1^3 \right] = \frac{2}{3} \left[\frac{1}{4} + \frac{81}{6} - \frac{3}{6} - \frac{81}{8} + \frac{1}{8} \right] \\ &= \frac{2}{3} \frac{24 + 324 - 12 - 243 + 3}{24} = \frac{2 \cdot 78}{3 \cdot 24} = \frac{13}{6} \\ \sigma^2 &= E[x^2] - \mu^2 = \frac{13}{6} - \frac{16}{9} = \frac{39 - 32}{18} = \frac{7}{18} \end{aligned}$$

Che fornisce $\sigma = (\sqrt{7/2})/3$

c) Calcolare $P(|x - \mu| \geq \sigma)$ e confrontarla con quanto si otterrebbe nel caso di una funzione di distribuzione di Gauss

I due limiti sono $x_{min} = (4 - \sqrt{7/2})/3 \sim 0.71$ e $x_{max} = (4 + \sqrt{7/2})/3 \sim 1.96$ da cui:

$$\begin{aligned} P(x < 0.71) &= \frac{2}{3} \int_0^{0.71} x dx = \frac{2}{6} (0.71)^2 = 0.17 \quad P(1.96 < x < 3) = \frac{2}{6} \int_{1.96}^3 (3-x) dx = \frac{6}{6} x \Big|_{1.96}^3 - \frac{2}{12} x^2 \Big|_{1.96}^3 \\ &= (3 - 1.96) - \frac{2}{12} (9 - 3.84) = 1.04 - 0.86 = 0.18 \end{aligned}$$

Ovvero:

$$P(|x - \mu| \geq \sigma) = 0.35$$

Da confrontare con il 0.32 della distribuzione Gaussiana.

3. Calcolare valore e incertezza delle seguenti grandezze fisiche:

$$V = \frac{4}{3}\pi R^3 \quad R = 6.0043 \pm 0.0007 \text{ cm} \quad V = (907.63 \pm 0.32) \text{ cm}^3$$

$$X = \frac{4\pi^2 \ell}{t^2} \quad \ell = 1.23 \pm 0.02 \text{ m} \quad t = 4.23 \pm 0.07 \text{ s} \quad X = (2.71 \pm 0.13) \text{ m s}^{-2}$$

$$a = x \sin y \quad x = 10.4 \pm 0.1 \text{ cm} \quad y = 12.5^\circ \pm 0.1^\circ \quad a = (2.25 \pm 0.04) \text{ cm}$$

$$\Delta a = \sin y \Delta x + x \cos y \Delta y = 0.22 \times 0.1 + 10.4 \times 0.976 \times 0.0017 = 0.022 + 0.017 = 0.039$$

(gli errori sono errori massimi)

4. Riportare correttamente le cifre significative e calcolare le incertezze relative delle seguenti misure di grandezze fisiche:

$$V = 3.4575 \pm 0.01260 \text{ m}^3 \quad \rightarrow \ell = 1.151 \pm 0.002 \quad \Delta \ell / \ell = 0.0017$$

$$S = 12534 \pm 593 \text{ cm}^2 \quad \rightarrow S = (12.53 \pm 0.53) \times 10^3 \text{ cm}^2 \quad \Delta S / S = 0.047$$

$$M = 10.3109 \pm 0.00101 \text{ kg} \quad \rightarrow M = 10.311 \pm 0.001 \text{ kg} \quad \Delta M / M = 0.0001$$

Scrivere le formule da utilizzare e determinare valore e incertezza di $\rho = M/V$ assumendo che:

a) le incertezze su M e V siano massime

$$\Delta \rho = \rho \left(\frac{\Delta M}{M} + \frac{\Delta V}{V} \right)$$

$$\rho = 2.982 \pm 0.011 \text{ kg/m}^3$$

b) le incertezze su M e V siano statistiche

$$\sigma_\rho^2 = \rho^2 \left(\frac{\sigma_M^2}{M^2} + \frac{\sigma_V^2}{V^2} \right)$$

$$\rho = 2.982 \pm 0.011 \text{ kg/m}^3$$

c) l'incertezza su V sia massima e l'incertezza su M sia statistica

l'errore dominante è quello su V, quindi trasformo l'incertezza su M in errori massimi $\Delta M = 3\sigma_M = 0.0003 \text{ kg}$ ed uso le formule di a)

Quale misura andrebbe migliorata per diminuire l'incertezza su ρ ? La misura del volume.

5. La velocità di un oggetto è stata misurata (nelle stesse condizioni) con 3 metodi diversi ottenendo i risultati:

$$v_1 = 134 \pm 5 \text{ m/s}; \quad v_2 = (1.39 \pm 0.04) \times 10^2 \text{ m/s}; \quad v_3 = 136.2 \pm 0.8 \text{ m/s}$$

Fornire una rappresentazione grafica dei risultati e dire se le tre misure sono compatibili nel caso di

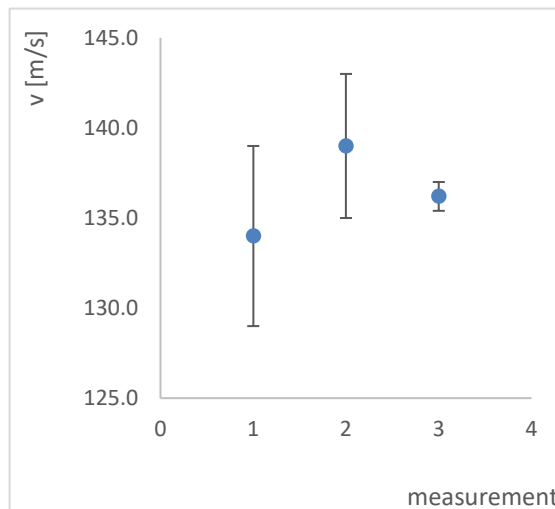
- incertezze massime: **compatibili**

- incertezze statistiche: **compatibili**

Combinare, se possibile, le tre misure per ottenere un unico valore e la corrispondente incertezza (scrivere anche le formule utilizzate), e commentare il risultato nel caso di incertezze statistiche si può usare la media pesata:

$$v = \frac{\sum_{i=1}^3 \frac{v_i}{\sigma_i^2}}{\sum_{i=1}^3 \frac{1}{\sigma_i^2}} \quad e \quad \sigma^2 = \frac{1}{\sum_{i=1}^3 \frac{1}{\sigma_i^2}}$$

Che fornisce: $v = 136.25 \pm 0.77 \text{ m/s}$. Nel caso di errori Massimi uso la 3° misura.



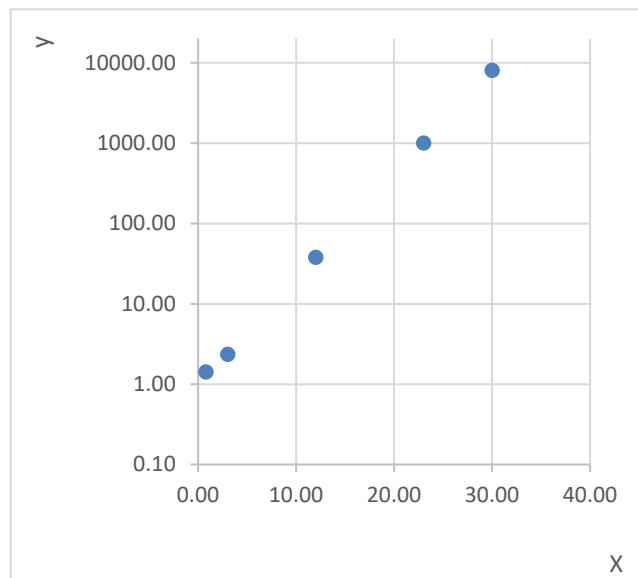
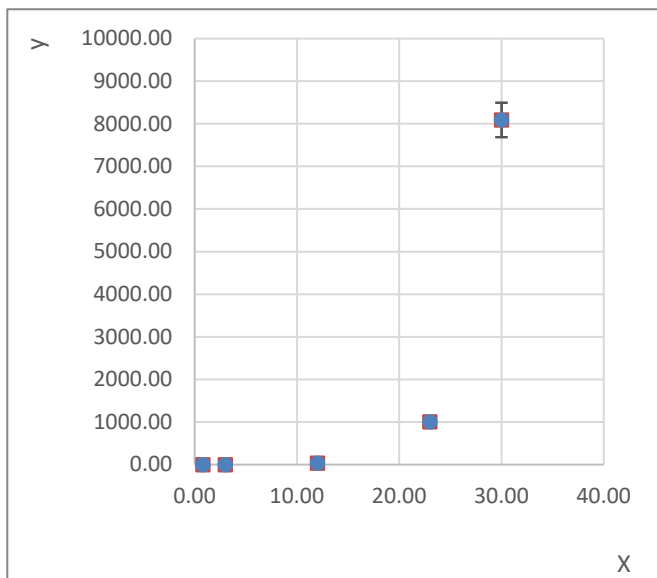
6. Tra le grandezze fisiche X e Y si ipotizza esista la relazione: $Y = e^{mX}$. Si hanno a disposizione le seguenti misure di X e Y: (0.80, 1.42), (3.00, 2.35), (12.0, 38.0), (23.0, 1.01×10^3) e (30.0, 8.09×10^3) con incertezze massime assolute di 0.01 per X, e incertezze statistiche relative di 0.05 per Y.

1. Riportare i valori misurati nei grafici con scala lineare e semilogaritmica, e commentare l'accordo con l'andamento previsto.

Se uso la scala semilogaritmica l'andamento deve essere lineare in X:

$$\log Y = \log e^{mX} = mX \log e$$

e nella scala semilogaritmica tale andamento lineare è visibile.



Facoltativo:

2. Scrivere le formule necessarie per calcolare valore e incertezza di m.

Posso calcolare i 5 valori di m usando

$$m_i = \frac{\ln Y_i}{X_i}$$

Il termine dominante sull'errore è quello statistico nella misura di Y per cui trasformo gli errori massimi in X in errori statistici usando $\sigma_X = \Delta x / \sqrt{3}$. La legge di propagazione della varianza fornisce

$$\sigma_{m_i}^2 = \left(\frac{1}{X_i Y_i}\right)^2 \sigma_{Y_i}^2 + \left(\frac{\ln Y_i}{X_i^2}\right)^2 \sigma_{X_i}^2$$

Che posso anche scrivere per errori relativi:

$$\frac{\sigma_{m_i}^2}{m_i^2} = (\ln Y_i)^{-2} \frac{\sigma_{Y_i}^2}{Y_i^2} + \frac{\sigma_{X_i}^2}{X_i^2}$$

Successivamente posso usare la media pesata delle diverse m_i per ottenere il risultato finale, previa verifica della compatibilità delle misure:

$$m = \frac{\sum_{i=1}^5 \frac{m_i}{\sigma_{m_i}^2}}{\sum_{i=1}^5 \frac{1}{\sigma_{m_i}^2}} \quad e \quad \sigma_m^2 = \frac{1}{\sum_{i=1}^5 \frac{1}{\sigma_{m_i}^2}}$$

3. Fare i calcoli e riportare nei grafici la curva corrispondente.

I risultati delle m_i sono tra loro compatibili, ed applicando le formule suddette ottengo

$$m = 3.004 \pm 0.0012$$

