

PROVETTA DI TEORIA DEI SEGNALI

9 novembre 2007

Esercizio N. 1

Un sistema lineare risponde all'impulso ideale $\delta(t - \tau)$ con il segnale $h(t, \tau)$. Dire, giustificando la risposta, se il sistema è tempo invariante e calcolare la sua risposta al segnale $x(t) = \text{rect}\left(t - \frac{1}{2}\right)$.

Soluzione esercizio 1

$$\text{a) } h(t, \tau) = \sin\left(\frac{\pi}{2}(t - \tau)\right)u(t - \tau)$$

Il sistema è tempo invariante, poiché $h(t, \tau) = h(t - \tau) \quad \forall(t, \tau)$.

$$y(t) = \int_0^1 \sin\left(\frac{\pi}{2}(t - \tau)\right)u(t - \tau)d\tau = \begin{cases} 0 & t < 0 \\ \int_0^t \sin\left(\frac{\pi}{2}(t - \tau)\right)d\tau = \frac{2}{\pi} \left[1 - \cos\left(\frac{\pi}{2}t\right)\right] & 0 < t < 1 \\ \int_0^1 \sin\left(\frac{\pi}{2}(t - \tau)\right)d\tau = \frac{2}{\pi} \left[\sin\left(\frac{\pi}{2}t\right) - \cos\left(\frac{\pi}{2}t\right)\right] & t > 1 \end{cases}$$

$$\text{b) } h(t, \tau) = \sin\left(\frac{\pi}{2}(t - \tau)\right)u(t)$$

Il sistema non è tempo invariante, poiché $h(t, \tau) \neq h(t - \tau)$.

$$y(t) = \int_0^1 \sin\left(\frac{\pi}{2}(t - \tau)\right)u(t)d\tau = u(t) \int_0^1 \sin\left(\frac{\pi}{2}(t - \tau)\right)d\tau = \frac{2}{\pi} \left[\sin\left(\frac{\pi}{2}t\right) - \cos\left(\frac{\pi}{2}t\right)\right]u(t)$$

$$\text{c) } h(t, \tau) = \sin\left(\frac{\pi}{2}t\right)u(t - \tau)$$

Il sistema non è tempo invariante, poiché $h(t, \tau) \neq h(t - \tau)$.

$$y(t) = \sin\left(\frac{\pi}{2}t\right) \int_0^1 u(t-\tau) d\tau = \begin{cases} 0 & t < 0 \\ \sin\left(\frac{\pi}{2}t\right) \int_0^t d\tau = t \sin\left(\frac{\pi}{2}t\right) & 0 < t < 1 \\ \sin\left(\frac{\pi}{2}t\right) \int_0^1 d\tau = \sin\left(\frac{\pi}{2}t\right) & t > 1 \end{cases}$$

d) $h(t, \tau) = \sin\left(\frac{\pi}{2}\tau\right) u(t-\tau)$

Il sistema non è tempo invariante, poiché $h(t, \tau) \neq h(t-\tau)$.

$$y(t) = \int_0^1 \sin\left(\frac{\pi}{2}\tau\right) u(t-\tau) d\tau = \begin{cases} 0 & t < 0 \\ \int_0^t \sin\left(\frac{\pi}{2}\tau\right) d\tau = \frac{2}{\pi} \left[1 - \cos\left(\frac{\pi}{2}t\right)\right] & 0 < t < 1 \\ \int_0^1 \sin\left(\frac{\pi}{2}\tau\right) d\tau = \frac{2}{\pi} & t > 1 \end{cases}$$

e) $h(t, \tau) = \frac{1}{2} e^{-\frac{1}{2}(t-\tau)} u(t-\tau)$

Il sistema è tempo invariante, poiché $h(t, \tau) = h(t-\tau) \quad \forall(t, \tau)$.

$$y(t) = \int_0^1 \frac{1}{2} e^{-\frac{1}{2}(t-\tau)} u(t-\tau) d\tau = \begin{cases} 0 & t < 0 \\ \int_0^t \frac{1}{2} e^{-\frac{1}{2}(t-\tau)} d\tau = 1 - e^{-\frac{1}{2}t} & 0 < t < 1 \\ \int_0^1 \frac{1}{2} e^{-\frac{1}{2}(t-\tau)} d\tau = e^{-\frac{1}{2}t} \left(e^{\frac{1}{2}} - 1\right) & t > 1 \end{cases}$$

$$f) \quad h(t, \tau) = \frac{1}{2} e^{-\frac{1}{2}(t-\tau)} u(t)$$

Il sistema non è tempo invariante, poiché $h(t, \tau) \neq h(t - \tau)$.

$$y(t) = \int_0^1 \frac{1}{2} e^{-\frac{1}{2}(t-\tau)} u(t) d\tau = u(t) \int_0^1 \frac{1}{2} e^{-\frac{1}{2}(t-\tau)} d\tau = \left(\frac{1}{e^{\frac{1}{2}} - 1} \right) e^{-\frac{1}{2}t} u(t)$$

$$g) \quad h(t, \tau) = \frac{1}{2} e^{-\frac{1}{2}t} u(t - \tau)$$

Il sistema non è tempo invariante, poiché $h(t, \tau) \neq h(t - \tau)$.

$$y(t) = \int_0^1 \frac{1}{2} e^{-\frac{1}{2}t} u(t - \tau) d\tau = \begin{cases} \frac{1}{2} e^{-\frac{1}{2}t} \int_0^1 u(t - \tau) d\tau = 0 & t < 0 \\ \frac{1}{2} e^{-\frac{1}{2}t} \int_0^t u(t - \tau) d\tau = t \frac{1}{2} e^{-\frac{1}{2}t} & 0 < t < 1 \\ \frac{1}{2} e^{-\frac{1}{2}t} \int_0^1 d\tau = \frac{1}{2} e^{-\frac{1}{2}t} & t > 1 \end{cases}$$

$$h) \quad h(t, \tau) = \frac{1}{2} e^{-\frac{1}{2}\tau} u(t - \tau)$$

Il sistema non è tempo invariante, poiché $h(t, \tau) \neq h(t - \tau)$.

$$y(t) = \int_0^1 \frac{1}{2} e^{-\frac{1}{2}\tau} u(t - \tau) d\tau = \begin{cases} 0 & t < 0 \\ \int_0^t \frac{1}{2} e^{-\frac{1}{2}\tau} d\tau = 1 - e^{-\frac{1}{2}t} & 0 < t < 1 \\ \int_0^1 \frac{1}{2} e^{-\frac{1}{2}\tau} d\tau = 1 - e^{-\frac{1}{2}} & t > 1 \end{cases}$$

Esercizio N. 2

Un sistema lineare tempo discreto risponde all'impulso $\delta[n-k]$ con il segnale $h[n,k]$. Dire, giustificando la risposta, se il sistema è tempo invariante e calcolare la sua risposta al segnale $x[n] = \begin{cases} 1 & \text{per } n = 0, 1, 2 \text{ e } 3 \\ 0 & \text{altrove} \end{cases}$

Soluzione esercizio 2

a) $h[n,k] = \left(\frac{1}{2}\right)^n u[n-k]$

Il sistema non è tempo invariante, poiché $h[n,k] \neq h[n-k]$.

$$y[n] = \sum_{k=0}^3 \left(\frac{1}{2}\right)^n u[n-k] = \begin{cases} \left(\frac{1}{2}\right)^n \sum_{k=0}^3 u[n-k] = 0 & n < 0 \\ \left(\frac{1}{2}\right)^n \sum_{k=0}^n u[n-k] = (n+1) \left(\frac{1}{2}\right)^n & 0 \leq n \leq 3 \\ \left(\frac{1}{2}\right)^n \sum_{k=0}^3 u[n-k] = 4 \left(\frac{1}{2}\right)^n & n > 3 \end{cases}$$

b) $h[n,k] = \left(\frac{1}{2}\right)^n u[k]$

Il sistema non è tempo invariante, poiché $h[n,k] \neq h[n-k]$.

$$y[n] = \sum_{k=0}^3 \left(\frac{1}{2}\right)^n u[k] = \left(\frac{1}{2}\right)^n \sum_{k=0}^3 u[k] = 4 \left(\frac{1}{2}\right)^n$$

c) $h[n,k] = \left(\frac{1}{2}\right)^{n-k} u[n-k]$

Il sistema è tempo invariante, poiché $h[n,k] = h[n-k] \quad \forall (n,k)$.

$$y[n] = \sum_{k=0}^3 \left(\frac{1}{2}\right)^{n-k} u[n-k] = \begin{cases} \left(\frac{1}{2}\right)^n \sum_{k=0}^3 \left(\frac{1}{2}\right)^{-k} u[n-k] = 0 & n < 0 \\ \left(\frac{1}{2}\right)^n \sum_{k=0}^n \left(\frac{1}{2}\right)^{-k} = 2 - \left(\frac{1}{2}\right)^n & 0 \leq n \leq 3 \\ \left(\frac{1}{2}\right)^n \sum_{k=0}^3 \left(\frac{1}{2}\right)^{-k} = 15 \left(\frac{1}{2}\right)^n & n > 3 \end{cases}$$

d) $h[n, k] = \left(\frac{1}{2}\right)^{n-k} u[n]$

Il sistema non è tempo invariante, poiché $h[n, k] \neq h[n-k]$.

$$y[n] = \sum_{k=0}^3 \left(\frac{1}{2}\right)^{n-k} u[n] \left(\frac{1}{2}\right)^n \sum_{k=0}^3 \left(\frac{1}{2}\right)^{-k} = 15 \left(\frac{1}{2}\right)^n u[n]$$

e) $h[n, k] = \left(\frac{1}{2}\right)^k u[n-k]$

Il sistema non è tempo invariante, poiché $h[n, k] \neq h[n-k]$.

$$y[n] = \sum_{k=0}^3 \left(\frac{1}{2}\right)^k u[n-k] = \begin{cases} \sum_{k=0}^3 \left(\frac{1}{2}\right)^k u[n-k] = 0 & n < 0 \\ \sum_{k=0}^n \left(\frac{1}{2}\right)^k = 2 - \left(\frac{1}{2}\right)^n & 0 \leq n \leq 3 \\ \sum_{k=0}^3 \left(\frac{1}{2}\right)^k = \frac{15}{8} & n > 3 \end{cases}$$

f) $h[n, k] = \left(\frac{1}{2}\right)^{n-k} u[k-n]$

Il sistema è tempo invariante, poiché $h[n, k] = h[n-k] \quad \forall (n, k)$.

$$y[n] = \sum_{k=0}^3 \left(\frac{1}{2}\right)^{n-k} u[k-n] = \begin{cases} \left(\frac{1}{2}\right)^n \sum_{k=0}^3 \left(\frac{1}{2}\right)^{-k} = 15 \left(\frac{1}{2}\right)^n & n \leq 0 \\ \left(\frac{1}{2}\right)^n \sum_{k=n}^3 \left(\frac{1}{2}\right)^{-k} = 16 \left(\frac{1}{2}\right)^n - 1 & 0 < n \leq 3 \\ 0 & n > 3 \end{cases}$$

g) $h[n, k] = \left(\frac{1}{2}\right)^k u[n]$

Il sistema non è tempo invariante, poiché $h[n, k] \neq h[n-k]$.

$$y[n] = \sum_{k=0}^3 \left(\frac{1}{2}\right)^k u[n] = \frac{15}{8} u[n]$$

h) $h[n, k] = \left(\frac{1}{2}\right)^{k-n} u[n-k]$

Il sistema è tempo invariante, poiché $h[n, k] = h[n-k] \quad \forall (n, k)$.

$$y[n] = \sum_{k=0}^3 \left(\frac{1}{2}\right)^{k-n} u[n-k] = \begin{cases} \left(\frac{1}{2}\right)^{-n} \sum_{k=0}^3 \left(\frac{1}{2}\right)^k u[n-k] = 0 & n < 0 \\ \left(\frac{1}{2}\right)^{-n} \sum_{k=0}^n \left(\frac{1}{2}\right)^k = \left(\frac{1}{2}\right)^{-n-1} - 1 & 0 \leq n \leq 3 \\ \left(\frac{1}{2}\right)^{-n} \sum_{k=0}^3 \left(\frac{1}{2}\right)^k = \frac{15}{8} \left(\frac{1}{2}\right)^{-n} & n > 3 \end{cases}$$

Esercizio N. 3

La trasformata di Fourier del segnale $x(t)$ è data da $X(\omega) = \frac{1}{\frac{1}{2} + j\omega}$.

Qual è la trasformata del segnale $y(t)$?

Soluzione esercizio 3

a) $y(t) = x\left(2 - \frac{t}{3}\right)$?

$$t \rightarrow -t \quad F[x(-t)] = F^*[x(t)] = \frac{1}{\frac{1}{2} - j\omega}$$

$$t \rightarrow (t-2) \quad F[x(2-t)] = F^*[x(t)]e^{-j2\omega} = \frac{e^{-j2\omega}}{\frac{1}{2} - j\omega}$$

$$t \rightarrow \frac{t}{3} \quad F\left[x\left(2 - \frac{t}{3}\right)\right] = 3 \frac{e^{-j6\omega}}{\frac{1}{2} - j3\omega}$$

b) $y(t) = x\left(1 - \frac{t}{2}\right)$

$$t \rightarrow -t \quad F[x(-t)] = F^*[x(t)] = \frac{1}{\frac{1}{2} - j\omega}$$

$$t \rightarrow (t-1) \quad F[x(1-t)] = F^*[x(t)]e^{-j\omega} = \frac{e^{-j\omega}}{\frac{1}{2} - j\omega}$$

$$t \rightarrow \frac{t}{2} \quad F\left[x\left(1 - \frac{t}{2}\right)\right] = 2 \frac{e^{-j2\omega}}{\frac{1}{2} - j2\omega}$$

c) $y(t) = x(3t-1)$

$$t \rightarrow (t-1) \quad F[x(t-1)] = F[x(t)]e^{-j\omega} = \frac{e^{-j\omega}}{\frac{1}{2} + j\omega}$$

$$t \rightarrow 3t \quad F[x(3t-1)] = \frac{1}{3} \frac{e^{-j\frac{\omega}{3}}}{\frac{1}{2} + j\frac{\omega}{3}}$$

d) $y(t) = x(1-2t)$

$$t \rightarrow -t \quad F[x(-t)] = F^*[x(t)] = \frac{1}{\frac{1}{2} - j\omega}$$

$$t \rightarrow (t-1) \quad F[x(1-t)] = F^*[x(t)]e^{-j\omega} = \frac{e^{-j\omega}}{\frac{1}{2} - j\omega}$$

$$t \rightarrow 2t \quad F[x(1-2t)] = \frac{1}{2} \frac{e^{-j\frac{\omega}{2}}}{\frac{1}{2} - j\frac{\omega}{2}}$$

e) $y(t) = x\left(\frac{1}{3} + \frac{t}{4}\right)$

$$t \rightarrow \left(t + \frac{1}{3}\right) \quad F\left[x\left(t + \frac{1}{3}\right)\right] = F[x(t)]e^{j\frac{1}{3}\omega} = \frac{e^{j\frac{1}{3}\omega}}{\frac{1}{2} + j\omega}$$

$$t \rightarrow \frac{t}{4} \quad F\left[x\left(\frac{1}{3} + \frac{t}{4}\right)\right] = 4 \frac{e^{j\frac{4}{3}\omega}}{\frac{1}{2} + j4\omega}$$

f) $y(t) = x(2-t)\cos(3t)$

$$t \rightarrow -t \quad F[x(-t)] = F^*[x(t)] = \frac{1}{\frac{1}{2} - j\omega}$$

$$t \rightarrow (t-2) \quad F[x(2-t)] = F^*[x(t)]e^{-j2\omega} = \frac{e^{-j2\omega}}{\frac{1}{2} - j\omega}$$

$$\times \cos(3t) \quad F[x(2-t)\cos(3t)] = \frac{1}{2} \frac{e^{-j2(\omega-3)}}{\frac{1}{2} - j(\omega-3)} + \frac{1}{2} \frac{e^{-j2(\omega+3)}}{\frac{1}{2} - j(\omega+3)}$$

g) $y(t) = x(2t)\sin(2t)$

$$t \rightarrow (2t) \quad F[x(2t)] = \frac{1}{2} \frac{1}{\frac{1}{2} + j\frac{\omega}{2}} = \frac{1}{1 + j\omega}$$

$$\times \sin(2t) \quad F[x(2t)\sin(2t)] = \frac{1}{2} \left\{ \frac{1}{j - (\omega - 2)} - \frac{1}{j - (\omega + 2)} \right\}$$

h) $y(t) = x(-t)\cos(t)$

$$t \rightarrow -t \quad F[x(-t)] = F^*[x(t)] = \frac{1}{\frac{1}{2} - j\omega}$$

$$\times \cos(t) \quad F[x(-t)\cos(t)] = \frac{1}{2} \frac{1}{\frac{1}{2} - j(\omega-1)} + \frac{1}{2} \frac{1}{\frac{1}{2} - j(\omega+1)}$$

Esercizio N. 4

Si consideri la coppia di segnali $\{x[n], y[n]\}$

Esiste un sistema LTI che risponde con $y[n]$ quando al suo ingresso viene posto $x[n]$?
(giustificare la risposta).

Se tale sistema esiste, calcolare la sua risposta in frequenza e dire se tale sistema è unico
(giustificare la risposta)

Soluzione esercizio 4

a) $x[n] = (j)^n \quad y[n] = (-j)^n$

Il segnale $x[n] = (j)^n = e^{j\frac{\pi}{2}n}$ è un'autofunzione per i sistemi LTI. Quindi la risposta può essere soltanto del tipo $x[n] = Q(j)^n$. Conclusione: non esiste un sistema LTI che a $x[n]$ risponda con $y[n]$.

b) $x[n] = \left(\frac{1}{2}\right)^n u[n] \quad y[n] = \left(\frac{1}{4}\right)^n u[n]$

I due segnali possiedono entrambi trasformata di Fourier, definita per ogni valore di Ω . La risposta in frequenza del sistema LTI che a $x[n]$ risponde con $y[n]$ è univocamente definita per ogni valore di Ω tramite:

$$H(e^{j\Omega}) = \frac{Y(e^{j\Omega})}{X(e^{j\Omega})} = \frac{1 - \frac{1}{2}e^{-j\Omega}}{1 - \frac{1}{4}e^{-j\Omega}}$$

Pertanto esiste uno e uno solo sistema LTI che a $x[n]$ risponde con $y[n]$.

c) $x[n] = \left(\frac{1}{2}\right)^n u[n] \quad y[n] = (4)^n u[-n]$

I due segnali possiedono entrambi trasformata di Fourier, definita per ogni valore di Ω . La risposta in frequenza del sistema LTI che a $x[n]$ risponde con $y[n]$ è univocamente definita per ogni valore di Ω tramite:

$$H(e^{j\Omega}) = \frac{Y(e^{j\Omega})}{X(e^{j\Omega})} = \frac{1 - \frac{1}{2}e^{-j\Omega}}{1 - \frac{1}{4}e^{j\Omega}}$$

Pertanto esiste uno e uno solo sistema LTI che a $x[n]$ risponde con $y[n]$.

d) $x[n] = e^{j\frac{n}{8}} \quad y[n] = 2e^{j\frac{n}{8}}$

Il segnale $x[n] = e^{j\frac{n}{8}}$ è un'autofunzione per i sistemi LTI. Quindi la risposta può essere soltanto del tipo $y[n] = Qe^{j\frac{n}{8}}$. In effetti $y[n]$ ha proprio tale forma ($Q=2$). Conclusione: esistono infiniti sistemi LTI che a $x[n]$ rispondono con $y[n]$. La loro risposta in frequenza è caratterizzata dal fatto che $H\left(e^{j\frac{1}{8}}\right) = 2$.

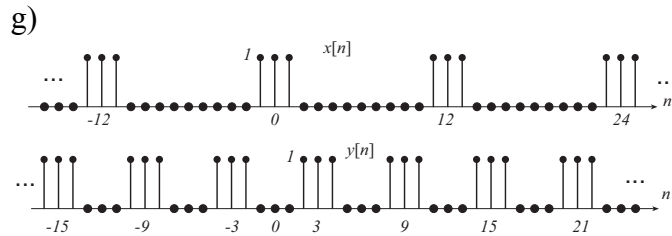
e) $x[n] = j^n \quad y[n] = 2j^n(1-j)$

Il segnale $x[n] = j^n = e^{j\frac{\pi}{2}n}$ è un'autofunzione per i sistemi LTI. Quindi la risposta può essere soltanto del tipo $y[n] = Qe^{j\frac{\pi}{2}n}$. In effetti $y[n]$ ha proprio tale forma ($Q = 2 - 2j$). Conclusione: esistono infiniti sistemi LTI che a $x[n]$ rispondono con $y[n]$. La loro risposta in frequenza è caratterizzata dal fatto che $H\left(e^{j\frac{\pi}{2}}\right) = 2(1-j)$.

f) $x[n] = \cos\left(\frac{\pi}{3}n\right) \quad y[n] = \cos\left(\frac{\pi}{3}n\right) + \sqrt{3}\sin\left(\frac{\pi}{3}n\right)$

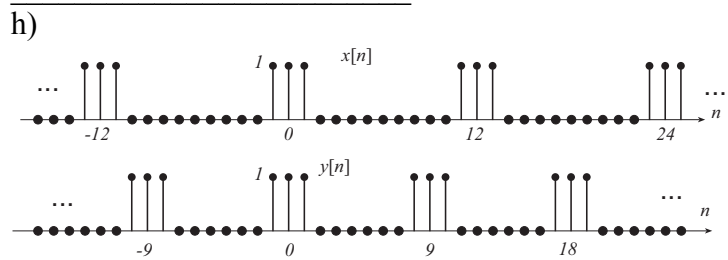
Il segnale $x[n] = \cos\left(\frac{\pi}{3}n\right)$ è somma di due autofunzioni per i sistemi LTI, e precisamente $\frac{1}{2}e^{j\frac{\pi}{3}n}$ e $\frac{1}{2}e^{-j\frac{\pi}{3}n}$. Quindi la risposta può essere soltanto del tipo $y[n] = Q\frac{1}{2}e^{j\frac{\pi}{3}n} + Q^* \frac{1}{2}e^{-j\frac{\pi}{3}n}$. In effetti $y[n]$ ha proprio tale forma ($Q = 1 - j\sqrt{3}$).

Conclusione: esistono infiniti sistemi LTI che a $x[n]$ rispondono con $y[n]$. La loro risposta in frequenza è caratterizzata dal fatto che $H\left(e^{j\frac{\pi}{3}}\right) = 1 - j\sqrt{3}$.



Il segnale $x[n]$ è periodico di periodo $N_x = 12$. Esso è quindi una combinazione lineare di 12 autofunzioni: $x[n] = \sum_{k=0}^{11} c_k e^{jk\frac{2\pi}{12}n}$. Il segnale $y[n]$ è periodico di periodo

$N_y = 6$, e quindi è combinazione lineare di 6 autofunzioni: $y[n] = \sum_{k=0}^5 d_k e^{jk\frac{2\pi}{6}n}$. Le sue autofunzioni sono comprese tra quelle che caratterizzano $x[n]$. Pertanto qualsiasi sistema la cui risposta in frequenza vale 0 nei punti $\Omega = k\frac{\pi}{6}$ con k dispari e vale $\frac{c_k}{d_k}$ nei punti $\Omega = k\frac{\pi}{6}$ con k pari trasforma $x[n]$ in $y[n]$.

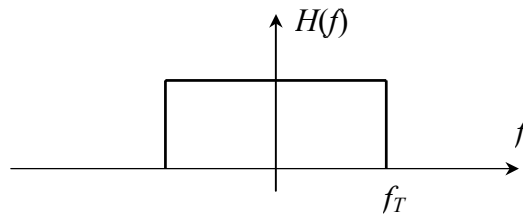


I segnali $x[n]$ ed $y[n]$ sono entrambi periodici, ma di periodi diversi ($N_1 = 12$, $N_2 = 9$) che non sono un multiplo dell'altro. Pertanto non può esistere un sistema LTI che dia in uscita $y[n]$ quando all'ingresso c'è $x[n]$.

Esercizio N. 5

Un segnale tempo continuo ha uno spettro con banda limitata alla frequenza f_M . Si desidera filtrare questo segnale con un filtro avente la risposta in frequenza riportata in figura. A tale scopo, esso viene convertito in un segnale tempo discreto

attraverso un campionamento alla frequenza f_s . Si calcoli la risposta impulsiva del filtro tempo discreto da usare per eseguire per via numerica il filtraggio desiderato.



Soluzione esercizio 5

Nell'intervallo $-\pi < \Omega < \pi$ la risposta in frequenza del filtro tempo discreto sarà quella indicata in figura I.

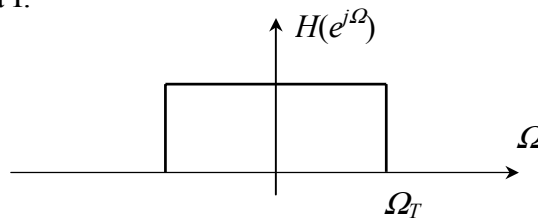


Fig. I

La pulsazione Ω_T è data da $\Omega_T = 2\pi \frac{f_T}{f_c}$.

La corrispondente risposta impulsiva risulta:

a) $f_M = 10 \text{ KHz}$, $f_T = 8 \text{ KHz}$, $f_s = 30 \text{ KHz} \rightarrow \Omega_T = 2\pi \frac{4}{15}$

$$h[n] = \frac{1}{2\pi} \int_{-\Omega_T}^{\Omega_T} e^{jn\Omega} d\Omega = \frac{\sin\left(2\pi \frac{4}{15} n\right)}{\pi n}$$

b) $f_M = 10 \text{ KHz}$, $f_T = 5 \text{ KHz}$, $f_s = 25 \text{ KHz} \rightarrow \Omega_T = \frac{2\pi}{5}$

$$h[n] = \frac{1}{2\pi} \int_{-\Omega_T}^{\Omega_T} e^{jn\Omega} d\Omega = \frac{\sin\left(\frac{2\pi}{5} n\right)}{\pi n}$$

c) $f_M = 10 \text{ KHz}$, $f_T = 5 \text{ KHz}$, $f_s = 50 \text{ KHz} \rightarrow \Omega_T = \frac{2\pi}{10}$

$$h[n] = \frac{1}{2\pi} \int_{-\Omega_T}^{\Omega_T} e^{jn\Omega} d\Omega = \frac{\sin\left(\frac{\pi}{5} n\right)}{\pi n}$$

d) $f_M = 5 \text{ KHz}$, $f_T = 1 \text{ KHz}$, $f_s = 15 \text{ KHz} \rightarrow \Omega_T = \frac{2\pi}{15}$

$$h[n] = \frac{1}{2\pi} \int_{-\Omega_T}^{\Omega_T} e^{jn\Omega} d\Omega = \frac{\sin\left(\frac{2\pi}{15}n\right)}{\pi n}$$

e) $f_M = 5 \text{ KHz}$, $f_T = 2 \text{ KHz}$, $f_s = 20 \text{ KHz} \rightarrow \Omega_T = \frac{2\pi}{10}$

$$h[n] = \frac{1}{2\pi} \int_{-\Omega_T}^{\Omega_T} e^{jn\Omega} d\Omega = \frac{\sin\left(\frac{\pi}{5}n\right)}{\pi n}$$

f) $f_M = 5 \text{ KHz}$, $f_T = 3 \text{ KHz}$, $f_s = 15 \text{ KHz} \rightarrow \Omega_T = 2\pi \frac{3}{15}$

$$h[n] = \frac{1}{2\pi} \int_{-\Omega_T}^{\Omega_T} e^{jn\Omega} d\Omega = \frac{\sin\left(\frac{2\pi}{5}n\right)}{\pi n}$$

g) $f_M = 2 \text{ KHz}$, $f_T = 1 \text{ KHz}$, $f_s = 6 \text{ KHz} \rightarrow \Omega_T = 2\pi \frac{1}{6}$

$$h[n] = \frac{1}{2\pi} \int_{-\Omega_T}^{\Omega_T} e^{jn\Omega} d\Omega = \frac{\sin\left(\frac{\pi}{3}n\right)}{\pi n}$$

h) $f_M = 2 \text{ KHz}$, $f_T = 0.5 \text{ KHz}$, $f_s = 5 \text{ KHz} \rightarrow \Omega_T = \frac{2\pi}{10}$

$$h[n] = \frac{1}{2\pi} \int_{-\Omega_T}^{\Omega_T} e^{jn\Omega} d\Omega = \frac{\sin\left(\frac{\pi}{5}n\right)}{\pi n}$$