

① In generale, la velocità angolare ω è definita come

$$\omega = \frac{\Delta\theta}{\Delta t}$$

Considerando $\Delta\theta = 2\pi$ (un giro completo della lancetta)

si ha:

$$\Delta t_h = 12 \text{ h} \quad \text{per la lancetta delle ore}$$

$$\Delta t_m = 60 \text{ m} \quad \text{" dei minuti}$$

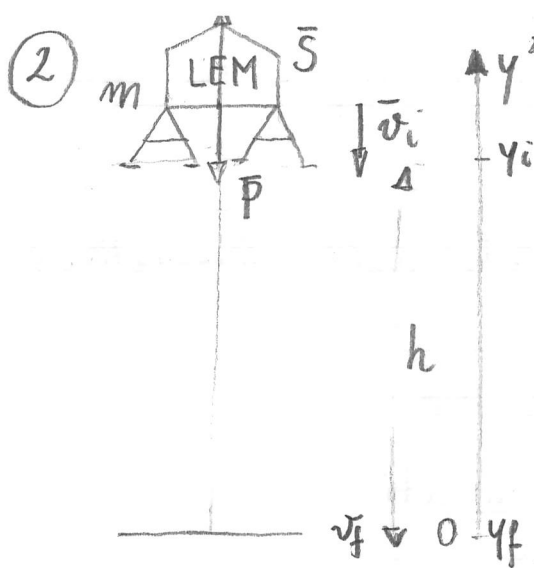
$$\Delta t_s = 60 \text{ s} \quad \text{" dei secondi}$$

Quindi

$$a) \omega_h = \frac{\Delta\theta}{\Delta t_h} = \frac{2\pi \text{ rad}}{12 \cdot 3600 \text{ s}} = 1,45 \cdot 10^{-4} \frac{\text{rad}}{\text{s}}$$

$$b) \omega_m = \frac{\Delta\theta}{\Delta t_m} = \frac{2\pi \text{ rad}}{3600 \text{ s}} = 1,75 \cdot 10^{-3} \frac{\text{rad}}{\text{s}}$$

$$c) \omega_s = \frac{\Delta\theta}{\Delta t_s} = \frac{2\pi \text{ rad}}{60 \text{ s}} = 1,05 \cdot 10^{-1} \frac{\text{rad}}{\text{s}}$$



SISTEMA DI RIF. ORIENTATO VERSO L'ALTO

$$m = 1,14 \cdot 10^4 \text{ kg}$$

$$|\vec{P}| = m|\vec{a}_g| = 1,14 \cdot 10^4 \text{ kg} \cdot 1,60 \text{ m/s}^2 =$$

$$|\vec{a}_g| = 1,60 \text{ m/s}^2$$

$$= 1,82 \cdot 10^4 \text{ N}$$

$$h = 165 \text{ m}$$

$$\Delta y = y_f - y_i = -h$$

$$v_i = -18,0 \text{ m/s}$$

("-" \Rightarrow verso il basso)

$$v_f = 0,0 \text{ m/s}$$

Il moto del modulo lunare è uniformemente accelerato, con $a = \frac{S - |\vec{P}|}{m}$ diretta verso l'alto. Da cui:

$$a = \frac{S}{m} - |\vec{a}_g|$$

$$S = m(a + |\vec{a}_g|)$$

a) Per trovare S dobbiamo quindi trovare a , l'accelerazione del moto. Dalla cinematica sappiamo che:

$$v_f^2 = v_i^2 + 2a\Delta y$$

$$a = \frac{v_f^2 - v_i^2}{-2h} = \frac{-(-18,0 \text{ m/s})^2}{-2 \cdot 165 \text{ m}} = + 0,982 \frac{\text{m}}{\text{s}^2}$$

il segno "+" indica accelerazione verso l'alto

Quindi:

$$S = m(a + a_g) = 1,14 \cdot 10^4 \text{ kg} (0,982 + 1,60) \frac{\text{m}}{\text{s}^2} =$$

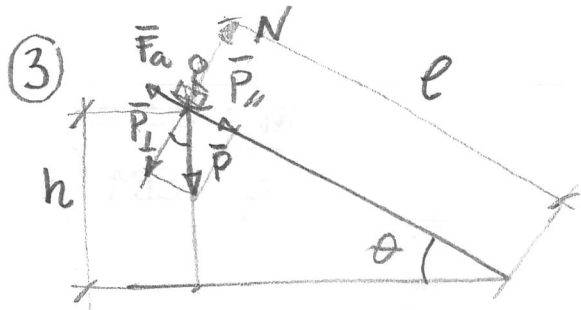
$$= 2,94 \cdot 10^4 \text{ N}$$

b) Sempre dalla cinematica

$$v_f = v_i + a\Delta t$$

$$0 = -18,0 \frac{\text{m}}{\text{s}} + 0,982 \frac{\text{m}}{\text{s}^2} \cdot \Delta t$$

$$\Delta t = \frac{18,0 \text{ m/s}}{0,982 \text{ m/s}^2} = 18,33 \text{ s}$$



$$\theta = 30^\circ$$

$$\bar{P} = m\bar{g}$$

$$m = 32 \text{ kg}$$

l = lunghezza del pendio

$$l = \frac{h}{\sin\theta} ; h = l \sin\theta$$

$$P_{\parallel} = mg \sin\theta$$

$$P_{\perp} = mg \cos\theta$$

$$F_a = \mu_d N = \mu_d P_{\perp} = \mu_d mg \cos\theta$$

$$\begin{aligned} \Sigma F &= P_{\parallel} - F_a = mg \sin\theta - \mu_d mg \cos\theta \\ &= mg (\sin\theta - \mu_d \cos\theta) \end{aligned}$$

a) Dal teorema lavoro-energia:

$$L = \Sigma F \cdot l = \Delta K = \frac{1}{2} m v_f^2 - \frac{1}{2} m v_i^2 \quad v_i = 0$$

$$m g l (\sin\theta - \mu_d \cos\theta) = \frac{1}{2} m v_f^2$$

$$l = \frac{v_f^2}{2g (\sin\theta - \mu_d \cos\theta)} = \frac{(9,0 \text{ m/s})^2}{2 \cdot 9,8 \frac{\text{m}}{\text{s}^2} \left(\frac{1}{2} - 0,1 \cdot \frac{\sqrt{3}}{2} \right)}$$

$$= 10,0 \text{ m}$$

$$\text{Da cui } h = 10,0 \text{ m} \cdot \frac{1}{2} = 5,0 \text{ m}$$

$$\text{b) } L_g = -\Delta U = mgh = 32 \text{ kg} \cdot 9,8 \frac{\text{m}}{\text{s}^2} \cdot 5,0 \text{ m} = 1570 \text{ J}$$

$$\text{c) } L = \Delta K = L_a + L_g$$

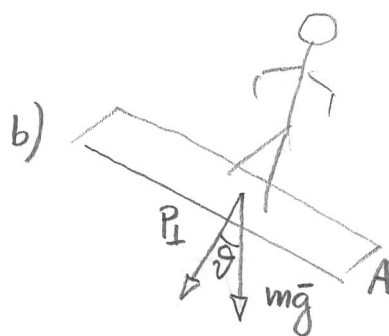
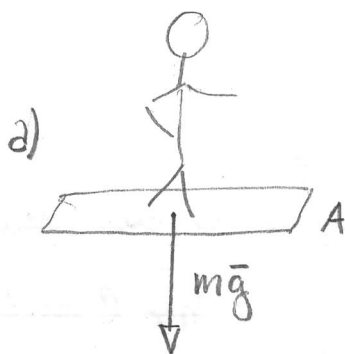
$$L_a = \Delta K - L_g = \frac{1}{2} m v_f^2 - mgh$$

$$= \frac{1}{2} 32 \text{ kg} \left(9,0 \frac{\text{m}}{\text{s}} \right)^2 - 1570 \text{ J}$$

$$= 1296 \text{ J} - 1570 \text{ J} = -274 \text{ J}$$

L_a è negativo come atteso (F_a è sempre opposta al moto)

4



$$m = 82 \text{ kg}$$
$$mg = 804 \text{ N}$$

Calcoliamo innanzitutto l'area A della tavola

$$A = (1,60 \times 0,30) \text{ m}^2 = 0,48 \text{ m}^2$$

a) La forza $m\bar{g}$ è ortogonale alla superficie innevata:

$$p_a = \frac{mg}{A} = \frac{804 \text{ N}}{0,48 \text{ m}^2} = 1676 \text{ Pa}$$

b) La componente di $m\bar{g}$ ortogonale alla superficie innevata è:

$$P_{\perp} = mg \cos \vartheta = \frac{\sqrt{3}}{2} mg$$

Pertanto

$$p_b = \frac{\frac{\sqrt{3}}{2} mg}{A} = \frac{\sqrt{3}}{2} p_a = 1451 \text{ Pa}$$