

Università di Trieste, A.A. 2021/2022

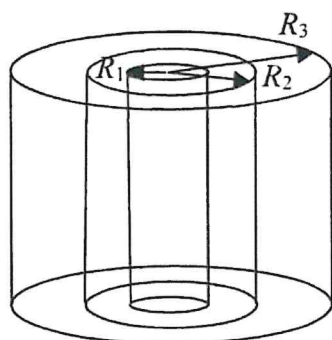
Laurea Triennale in Ingegneria Elettronica e Informatica

Fisica Generale 2 - Primo appello invernale - 17/1/2022

Cognome ..... Nome .....

Istruzioni per gli esercizi:

Per ciascuna domanda rispondere fornendo solo il risultato finale: la grandezza incognita espressa simbolicamente in funzione delle grandezze date o di quelle ottenute in altre risposte, e il corrispondente risultato numerico, con il corretto numero di cifre significative e con le unità di misura appropriate.



1. Si hanno tre gusci metallici cilindrici coassiali di lunghezza indefinita, spessore trascurabile e raggi  $R_1 = 0.9$  cm,  $R_2 = 3.2$  cm e  $R_3 = 4.8$  cm (Figura 1). Sui tre gusci vengono depositate rispettivamente cariche per una densità lineare

$$\lambda_1 = 6.34 \cdot 10^{-10} \frac{C}{m}, \lambda_2 = 2\lambda_1 \text{ e } \lambda_3 = -\lambda_1.$$

a. Chiamando  $\hat{r}$  il versore radiale di un sistema di coordinate cilindriche, calcolate il vettore campo elettrico a  $r=4.2$  cm e  $r=5.7$  cm.

$$E(r=4.2 \text{ cm}) = \frac{3\lambda_1}{2\pi\epsilon_0} \frac{1}{4.2 \text{ cm}} \hat{r} = 874 \text{ N/m} \hat{r}$$

$$E(r=5.7 \text{ cm}) = \frac{2\lambda_1}{2\pi\epsilon_0} \frac{1}{5.7 \text{ cm}} \hat{r} = 600 \text{ N/m} \hat{r}$$

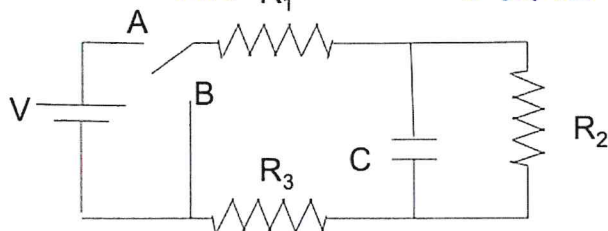
b. Determinate la differenza di potenziale elettrostatico tra  $r=0$  ed  $r=5.7$  cm.

$$\Delta V = \frac{\lambda_1}{2\pi\epsilon_0} \left( \ln \frac{R_2}{R_1} + 3 \ln \frac{R_3}{R_2} + 2 \ln \frac{5.7 \text{ cm}}{R_3} \right) = -32.3 \text{ V}$$

c. Un elettrone parte da  $r=0$  in direzione radiale, passando attraverso i gusci tramite appositi fori, e arriva a  $r=4.2$  cm per poi tornare indietro. Calcolatene la velocità iniziale.

$$|\Delta V(r=4.2 \text{ cm})| = \frac{\lambda_1}{2\pi\epsilon_0} \left( \ln \frac{R_2}{R_1} + 3 \ln \left( \frac{4.2 \text{ cm}}{R_2} \right) \right) = 23.8 \text{ V}$$

$$v = \sqrt{\frac{2e\Delta V_e}{m_e R_1}} = 2.89 \times 10^6 \text{ m/s}$$



2. Consideriamo il circuito in figura, con  $C=1.31 \text{ nF}$ ,  $V=12 \text{ V}$ ,  $R_1=11.4 \text{ k}\Omega$ ,  $R_2=19.3 \text{ k}\Omega$ ,  $R_3=33.3 \text{ k}\Omega$ . Calcolate:

a. la corrente che esce dal generatore non appena viene chiuso l'interruttore sul punto A;

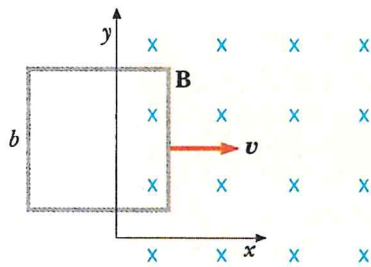
$$I = \frac{V}{R_1 + R_3} = 2.68 \times 10^{-4} \text{ A}$$

b. la carica  $Q_0$  accumulatasi sul condensatore a regime.

$$Q_0 = \frac{VCR_2}{R_1 + R_2 + R_3} = 4.76 \text{ } \mu\text{C}$$

c. Successivamente commutiamo l'interruttore da A a B. Calcolate dopo quanto tempo la carica del condensatore e' pari a  $Q_0/10$

$$\tau = \frac{R_2(R_1 + R_3)}{R_1 + R_2 + R_3} \quad C = 1.77 \times 10^{-5} \text{ s}, \quad t = \tau \ln(10) = 4.07 \times 10^{-5} \text{ s}$$



3. Una spira conduttrice quadrata, di lato  $b=20 \text{ cm}$ , massa  $m=4 \text{ g}$ , resistenza  $R=25 \Omega$ , si muove senza attrito sul piano  $xy$ , con velocita' costante  $v_0 4 \cdot 10^{-2} \text{ m/s}$ . Per  $x \geq 0$  esiste un campo magnetico uniforme e costante di valore  $B=0.5 \text{ T}$ , con direzione come in figura; la spira entra in questa regione a  $t=0$ .

a. Calcolate la f.e.m. indotta nel periodo in cui la spira e' solo parzialmente nel campo (solo formula).

$$\mathcal{E} = v b B$$

b. Calcolate la velocita'  $v_1$  raggiunta dalla spira dopo  $t_1=2.9 \text{ s}$ .

$$\tau = \frac{mR}{(bB)^2} = 10 \text{ s}, \quad v_1 = v_0 e^{-t_1/\tau} = 2.99 \times 10^{-2} \text{ m/s}$$

c. Calcolate l'energia dissipata nel circuito fino a quel momento.

$$U = \frac{1}{2} m v_0^2 \left( 1 - e^{-\frac{2t_1}{\tau}} \right) = \frac{1}{2} m (v_0^2 - v_1^2) = 1.41 \times 10^{-6} \text{ J}$$