

**Teoria dei Segnali**  
(Appello del 28 gennaio 2004)  
*Laurea quinquennale*

**Prova scritta**

Esercizio N. 1

I sistemi A e B di figura 1 sono lineari e tempo-invarianti. La risposta impulsiva  $h_A(t)$  del sistema A è pari a  $\sum_{k=0}^{+\infty} \left(\frac{1}{2}\right)^k \delta(t - kT)$ . Quale deve essere la risposta impulsiva del sistema B, affinché quella del sistema complessivo sia pari a  $\delta(t) + \frac{1}{2}\delta(t - T)$  ?

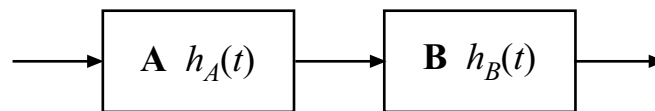


Fig. 1

**Soluzione**

La risposta in frequenza del sistema A è:

$$H_A(\omega) = \sum_{k=0}^{+\infty} \left(\frac{1}{2}\right)^k e^{-j\omega kT} = \sum_{k=0}^{+\infty} \left(\frac{1}{2} e^{-j\omega T}\right)^k = \frac{1}{1 - \frac{1}{2} e^{-j\omega T}}$$

Affinché la risposta impulsiva dell'intero sistema sia  $\delta(t) + \frac{1}{2}\delta(t - T)$ , la risposta in frequenza del sistema B dovrà essere:

$$H_B(\omega) = \left(1 - \frac{1}{2} e^{-j\omega T}\right) \left(1 + \frac{1}{2} e^{-j\omega T}\right) = 1 - \frac{1}{4} e^{-j2\omega T}$$

Pertanto  $h_B(t) = \delta(t) - \frac{1}{4}\delta(t - 2T)$ .

Esercizio N. 2

Un sistema tempo discreto lineare risponde all'impulso unitario  $\delta[n - k]$  con il segnale  $h[n, k] = \left(\frac{1}{2}\right)^n u[n - k]$ . Qual è la risposta del sistema al segnale  $x[n] = \left(\frac{1}{3}\right)^n u[n]$ ?

**Soluzione**

Il sistema non è tempo-invariante. La risposta è calcolabile attraverso la seguente sommatoria:

$$\begin{aligned}
 y[n] &= \sum_{k=-\infty}^{+\infty} x[k]h[n,k] = \sum_0^{+\infty} \left(\frac{1}{3}\right)^k u[k] \left(\frac{1}{2}\right)^n u[n-k] = \left(\frac{1}{2}\right)^n \sum_0^n \left(\frac{1}{3}\right)^k \\
 &= \left(\frac{1}{2}\right)^n \frac{1 - \left(\frac{1}{3}\right)^{n+1}}{\frac{2}{3}} u[n] = 3 \left\{ \left(\frac{1}{2}\right)^{n+1} - \left(\frac{1}{6}\right)^{n+1} \right\} u[n]
 \end{aligned}$$

Esercizio N. 3

Un segnale tempo discreto ha lo spettro riportato in figura 2. Disegnare con cura lo spettro del segnale  $x[3n]$ .

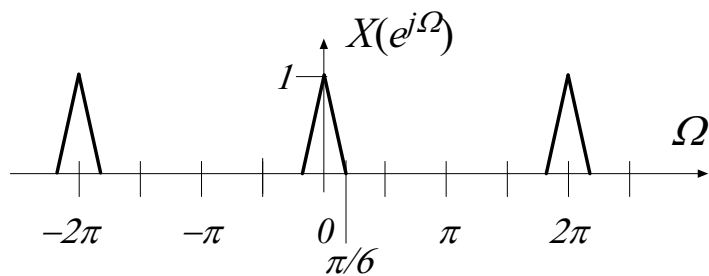


Fig. 2

**Soluzione**

Il segnale  $y[n] = x[3n]$  può essere ottenuto con un campionamento di  $x[n]$  con periodo di campionamento  $N = 3$ , seguito da una decimazione di ordine 3, che elimina i due zeri tra ciascun campione di  $x[n]$ . Lo spettro  $X_p(e^{j\Omega})$  del segnale campionato è riportato nella figura I.

Nella stessa figura è riportato lo spettro di  $y[n] = x[3n]$ .

Analiticamente si ha:

$$Y(e^{j\Omega}) = \sum_{n=-\infty}^{+\infty} x[3n] e^{-j\Omega n} = \sum_{n=-\infty}^{+\infty} x_p[n] e^{-j\frac{\Omega}{3}n}$$

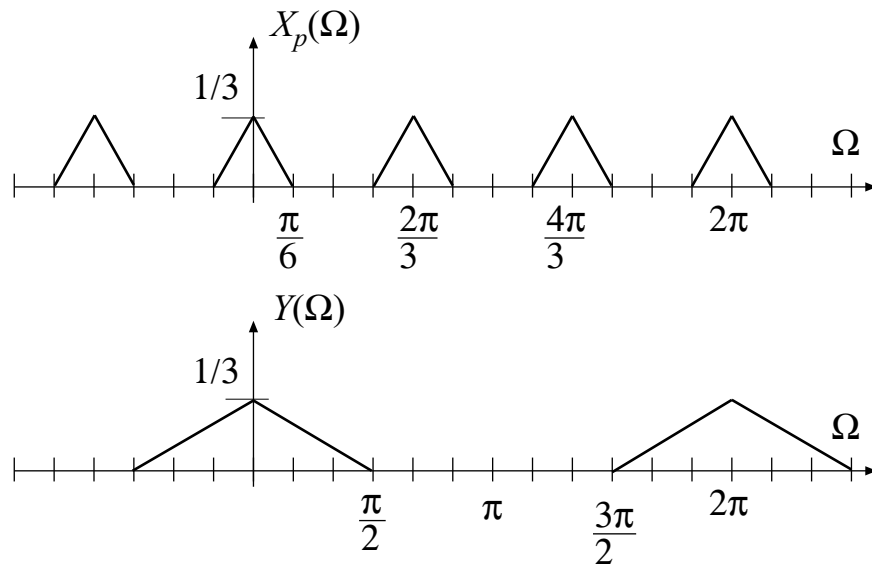


Fig. 1

Esercizio N. 4

Come è noto, il gradino unitario tempo discreto ha per trasformata Z la funzione  $\frac{z}{z-1}$  (ROC  $|z| > 1$ ). Qual è il segnale cui compete, come trasformata Z, la funzione  $\frac{1}{(z-1)^2}$  con regione di convergenza  $|z| > 1$ ?

**Soluzione**

La funzione  $\frac{1}{(z-1)^2}$  è pari a  $-\frac{d}{dz}\left(\frac{1}{z-1}\right)$ . D'altronde,  $\frac{1}{z-1}$  è la trasformata di  $u[n-1]$  e, per la proprietà della derivazione rispetto a  $z$ ,  $-\frac{d}{dz}\left(\frac{1}{z-1}\right) = \frac{z}{(z-1)^2}$  è la trasformata di  $nu[n-1]$ . Quindi  $\frac{1}{(z-1)^2}$  è la trasformata di  $(n-1)u[n-2]$ , che è anche uguale a  $(n-1)u[n-1]$ .

Esercizio N. 5

Si consideri le tre resistenze connesse in figura 3. Calcolare la potenza di rumore disponibile ai morsetti  $a - a'$  su una banda di 100 MHz. (si ricordi che la costante di Boltzmann è pari a  $1.38 \times 10^{-23}$  Joule/Hz).

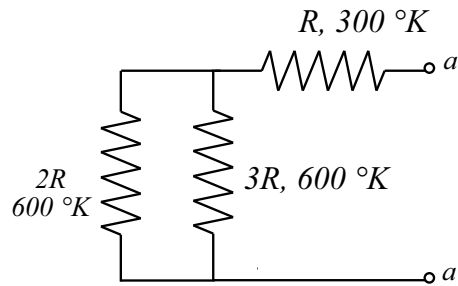


Fig. 3

**Soluzione**

Le tre resistenze sono equivalenti ad una resistenza di valore  $R$  a temperatura di  $300\text{ °K}$  in serie ad un'altra di valore  $(6/5)R$ , a temperatura di  $600\text{ °K}$ . Esse equivalgono ad una resistenza di valore  $(11/5)R$ , a temperatura  $T_{eq}$  data da:

$$T_{eq} = \alpha_1 \times 300 + \alpha_2 \times 600 = \frac{5}{11} 300 + \frac{6}{11} 600 \cong 464\text{ °K}$$

La potenza disponibile è:

$$P_d = KT_{eq}B = 1.38 \times 10^{-23} \times 464 \times 10^8 = 0.640 \times 10^{-12}\text{ W}$$

Esercizio N. 6

Un processo aleatorio stazionario  $x(t)$  ha la seguente densità spettrale di potenza:

$$S_x(f) = \frac{1}{2} \delta(f + f_0) + \frac{1}{2} \delta(f - f_0)$$

Calcolare la funzione di mutua correlazione tra  $x(t)$  e  $\hat{x}(t)$  (trasformato di Hilbert di  $x(t)$ )

**Soluzione**

La funzione di autocorrelazione di  $x(t)$  è data da  $\cos(2\pi f_0 \tau)$ . Poiché:

$$R_{x\hat{x}}(t, t + \tau) = R_x(\tau) \otimes h(\tau) = R_x(\tau) \otimes \frac{1}{\pi \tau}$$

risulta:

$$R_{x\hat{x}}(t, t + \tau) = \hat{R}_x(\tau) = \sin(2\pi f_0 \tau)$$