

PROVETTA DI TEORIA DEI SEGNALI (a)

18 dicembre 2008

Esercizio N. 1

Un terminale mobile riceve un segnale costituito da due repliche del segnale passa banda $x(t) = Am(t)\cos(2\pi f_0 t)$, ove $m(t)$ è un segnale in banda base e $f_0 = 1 \text{ GHz}$. Le due repliche hanno ampiezze $A_1 = 1$ e $A_2 = 0.25$. Rispetto alla prima, la seconda arriva con un ritardo di $1/8 \text{ ns}$. Calcolare il rapporto tra la parte in fase e la parte in quadratura del segnale passa banda complessivo ricevuto dal terminale (N.B.: la risposta deve essere un numero).

Soluzione esercizio 1

Il segnale ricevuto ha la seguente espressione:

$$\begin{aligned} x(t) &= m(t)\cos(2\pi 10^9 t) + 0.25m(t)\cos(2\pi 10^9 (t - 1/8 \times 10^{-9})) \\ &= m(t)\cos(2\pi 10^9 t) + 0.25m(t)\cos\left(2\pi 10^9 t - \frac{\pi}{4}\right) \end{aligned}$$

La forma canonica del segnale passa banda è:

$$= m(t)\left[1 + \frac{1}{4\sqrt{2}}\right]\cos(2\pi 10^9 t) + m(t)\frac{1}{4\sqrt{2}}\sin(2\pi 10^9 t)$$

$$\text{Il rapporto richiesto è: } -\frac{1 + \frac{1}{4\sqrt{2}}}{\frac{1}{4\sqrt{2}}} = -(1 + 4\sqrt{2}) = -6.6569$$

Esercizio N. 2

Un sistema LTI tempo discreto ha la seguente funzione di trasferimento:

$$H(z) = z^2 + \frac{1}{z}$$

Dire, giustificando la risposta, se il sistema è causale e se è stabile. Determinare quindi la sua risposta al segnale $x[n] = \cos^2\left(\frac{\pi}{4}n\right)$

Soluzione esercizio 2

La risposta impulsiva del sistema è $h[n] = \delta[n+2] + \delta[n-1]$. Il sistema non è causale (non è verificata la condizione $h[n] = 0$ per $n < 0$); esso è stabile, poiché la

risposta impulsiva è un segnale di durata finita, con valori tutti finiti. La risposta è data da $x[n+2] + x[n-1] = \cos^2\left(\frac{\pi}{4}n + \frac{\pi}{2}\right) + \cos^2\left(\frac{\pi}{4}n - \frac{\pi}{4}\right) = 1 - \frac{1}{2}\cos\left(\frac{\pi}{2}n\right) + \frac{1}{2}\sin\left(\frac{\pi}{2}n\right)$.

Esercizio N. 3

La generica realizzazione di un processo aleatorio è così definita:

$$x(t) = 1 - \text{rect}(t - \alpha)$$

in cui α è una variabile aleatoria con densità di probabilità $p(\alpha) = \frac{1}{2}e^{-|\alpha|}$.

Calcolare il valor medio del processo per $t = 0.5$

Soluzione esercizio 3

Nel generico istante t_0 la realizzazione può assumere soltanto due valori: 1 oppure 0. Pertanto il valor medio sarà:

$$m_x(t_0) = 1 \times P[1] + 0 \times P[0] = 1 \times P[1] = 1 - P[0].$$

La probabilità $P[0]$ corrisponde alla probabilità che la variabile α assuma un valore compreso tra $t_0 - \frac{1}{2}$ e $t_0 + \frac{1}{2}$ e quindi:

$$m_x(t_0) = 1 - \int_{t_0 - 1/2}^{t_0 + 1/2} \frac{1}{2} e^{-|\alpha|} d\alpha \quad \Rightarrow \quad m_x(0.5) = 1 - \int_0^1 \frac{1}{2} e^{-|\alpha|} d\alpha = \frac{1}{2} \left(1 + \frac{1}{e}\right)$$

Esercizio N. 4

Sia $m(t)$ un processo aleatorio stazionario in banda base. Si consideri il processo passa banda la cui generica realizzazione è data da:

$$x(t) = A(1 + m(t))\cos(2\pi f_0 t + \phi)$$

in cui A e f_0 sono due costanti e ϕ è una variabile aleatoria uniformemente distribuita tra 0 e 2π , indipendente da $m(t)$.

Calcolare il valor medio e la funzione di auto correlazione di $x(t)$ e dire, giustificando la risposta, se il processo $x(t)$ è stazionario in senso lato.

Soluzione esercizio 4

Calcolo del valor medio:

$$E[A(1 + m(t))\cos(2\pi f_0 t + \phi)] = E[A(1 + m(t))] \times E[\cos(2\pi f_0 t + \phi)]$$

(per l'indipendenza tra $m(t)$ e ϕ)

$$E[A(1 + m(t))] \times E[\cos(2\pi f_0 t + \phi)] = 0 \quad (\text{quindi indep. da } t)$$

Calcolo della funzione di autocorrelazione:

$$R_x(t, t + \tau) = E[A^2(1 + m(t))(1 + m(t + \tau))\cos(2\pi f_0 t + \phi)\cos(2\pi f_0(t + \tau) + \phi)]$$

$$= \underbrace{E[A^2(1 + m(t))(1 + m(t + \tau))]}_{=A^2(1+R_m(\tau)+2m_m)} E\left[\underbrace{\frac{1}{2}\cos(2\pi f_0(2t + \tau) + 2\phi) + \frac{1}{2}\cos(2\pi f_0 \tau)}_{=0 + \frac{1}{2}\cos(2\pi f_0 \tau)}\right]$$

$$R_x(\tau) = \frac{A^2}{2}(1 + R_m(\tau) + 2m_m)\cos(2\pi f_0 \tau)$$

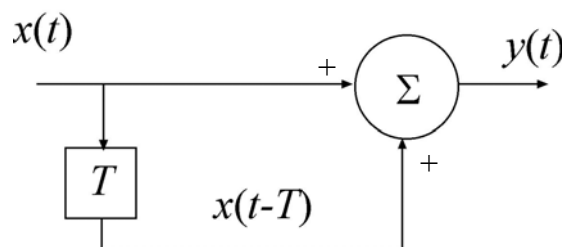
Il processo è stazionario in senso debole.

Esercizio N. 5

Nella figura seguente $x(t)$ è un processo aleatorio stazionario con densità spettrale bilatera di potenza pari a:

$$S_x(f) = 2 \times 10^{-3} \times \text{rect}\left[\frac{fT}{2}\right] \text{ W/Hz}$$

Si calcoli la potenza media del processo $y(t)$, sapendo che $T = 1 \text{ msec}$.



Soluzione esercizio 5

Il sistema ha risposta impulsiva pari a $\delta(t) + \delta(t - T)$ e risposta in frequenza $H(f) = 1 + e^{-j2\pi fT}$. La densità spettrale di potenza del processo in uscita è data da

$$S_y(f) = S_x(f) |1 + e^{-j2\pi fT}|^2 = S_x(f) [2 + 2\cos(2\pi fT)].$$

La potenza media risulta essere:

$$P = 2 \times 10^{-3} \int_{-1/T}^{1/T} [2 + 2\cos(2\pi fT)] df = 2 \times 10^{-3} \left\{ \frac{4}{T} + 0 \right\} = \frac{8 \times 10^{-3}}{T}$$

Con $T = 1 \text{ msec}$ si ha che $P = 8 \text{ W}$.

PROVETTA DI TEORIA DEI SEGNALI (b)

18 dicembre 2008

Esercizio N. 1

Un terminale mobile riceve un segnale costituito da due repliche del segnale passa banda $x(t) = Am(t)\cos(2\pi f_0 t)$, ove $m(t)$ è un segnale in banda base e $f_0 = 1 \text{ GHz}$. Le due repliche hanno ampiezze $A_1 = 1$ e $A_2 = 0.1$. Rispetto alla prima, la seconda arriva con un ritardo di $1/12 \text{ ns}$. Calcolare il rapporto tra la parte in fase e la parte in quadratura del segnale passa banda complessivo ricevuto dal terminale (N.B.: la risposta deve essere un numero).

Soluzione esercizio 1

Il segnale ricevuto ha la seguente espressione:

$$\begin{aligned} x(t) &= m(t)\cos(2\pi 10^9 t) + 0.1m(t)\cos\left(2\pi 10^9\left(t - 1/12 \times 10^{-9}\right)\right) \\ &= m(t)\cos(2\pi 10^9 t) + 0.1m(t)\cos\left(2\pi 10^9 t - \frac{\pi}{6}\right) \end{aligned}$$

La forma canonica del segnale passa banda è:

$$= m(t)\left[1 + \frac{\sqrt{3}}{20}\right]\cos(2\pi 10^9 t) + m(t)\frac{1}{20}\sin(2\pi 10^9 t)$$

$$\text{Il rapporto richiesto è: } -\frac{1 + \frac{\sqrt{3}}{20}}{\frac{1}{20}} = -(20 + \sqrt{3}) = -21.7321$$

Esercizio N. 2

Un sistema LTI tempo discreto ha la seguente funzione di trasferimento:

$$H(z) = \frac{3z^4 + 1}{z^2}$$

Dire, giustificando la risposta, se il sistema è causale e se è stabile. Determinare quindi la sua risposta al segnale $x[n] = \cos\left(\frac{2\pi}{7}n\right)u[n]$.

Soluzione esercizio 2

La risposta impulsiva del sistema è $h[n] = 3\delta[n+2] + \delta[n-2]$. Il sistema non è causale (non è verificata la condizione $h[n] = 0$ per $n < 0$); esso è stabile, poiché la risposta impulsiva è un segnale di durata finita, con valori tutti finiti. La risposta è data da $3x[n+2] + x[n-2] = 3\cos\left(\frac{2\pi}{7}n + \frac{4\pi}{7}\right)u[n+2] + \cos\left(\frac{2\pi}{7}n - \frac{4\pi}{7}\right)u[n-2]$.

Esercizio N. 3

La generica realizzazione di un processo aleatorio è così definita:

$$x(t) = 1 - \text{rect}(t - \alpha)$$

in cui α è una variabile aleatoria con densità di probabilità $p(\alpha) = \begin{cases} 1 - |\alpha| & \text{per } |\alpha| \leq 1 \\ 0 & \text{altrove} \end{cases}$.

Calcolare il valor medio del processo per $t = 0.5$

Soluzione esercizio 3

Nel generico istante t_0 la realizzazione può assumere soltanto due valori: 1 oppure 0. Pertanto il valor medio sarà:

$$m_x(t_0) = 1 \times P[1] + 0 \times P[0] = 1 \times P[1] = 1 - P[0].$$

La probabilità $P[0]$ corrisponde alla probabilità che la variabile α assuma un valore compreso tra $t_0 - \frac{1}{2}$ e $t_0 + \frac{1}{2}$ e quindi:

$$m_x(t_0) = 1 - \int_{t_0-1/2}^{t_0+1/2} 1 - |\alpha| d\alpha \Rightarrow m_x(0.5) = 1 - \int_0^1 1 - |\alpha| d\alpha = \frac{1}{2}$$

Esercizio N. 4

Sia $m(t)$ un processo aleatorio stazionario in banda base. Si consideri il processo passa banda la cui generica realizzazione è data da:

$$x(t) = A(1 + m(t))\cos(2\pi f_0 t + \phi)$$

in cui A e f_0 sono due costanti e ϕ è una variabile aleatoria uniformemente distribuita tra 0 e π , indipendente da $m(t)$.

Calcolare il valor medio e la funzione di auto correlazione di $x(t)$ e dire, giustificando la risposta, se il processo $x(t)$ è stazionario in senso lato.

Soluzione esercizio 4

Calcolo del valor medio:

$$E[A(1+m(t))\cos(2\pi f_0 t + \phi)] = E[A(1+m(t))] \times E[\cos(2\pi f_0 t + \phi)]$$

(per l'indipendenza tra $m(t)$ e ϕ)

$$E[A(1+m(t))] \times E[\cos(2\pi f_0 t + \phi)] = A(1+m_m) \frac{1}{\pi} \int_0^\pi \cos(2\pi f_0 t + \phi) d\phi$$

$$= -A(1+m_m) \frac{2}{\pi} \sin(2\pi f_0 t)$$

Esso dipende da t , quindi il processo non potrà essere stazionario in senso debole.

Calcolo della funzione di autocorrelazione:

$$R_x(t, t + \tau) = E[A^2(1+m(t))(1+m(t+\tau))\cos(2\pi f_0 t + \phi)\cos(2\pi f_0(t+\tau) + \phi)]$$

$$= \underbrace{E[A^2(1+m(t))(1+m(t+\tau))]}_{=A^2(1+R_m(\tau)+2m_m)} \underbrace{E\left[\frac{1}{2}\cos(2\pi f_0(2t+\tau)+2\phi) + \frac{1}{2}\cos(2\pi f_0\tau)\right]}_{=0+\frac{1}{2}\cos(2\pi f_0\tau)}$$

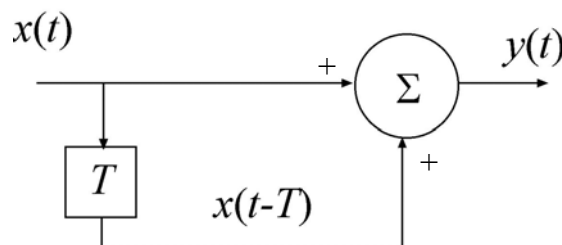
$$R_x(\tau) = \frac{A^2}{2}(1+R_m(\tau)+2m_m)\cos(2\pi f_0\tau)$$

Esercizio N. 5

Nella figura seguente $x(t)$ è un processo aleatorio stazionario con densità spettrale bilatera di potenza pari a:

$$S_x(f) = 1 \times 10^{-3} \times \text{rect}\left[\frac{fT}{2}\right] \text{ W/Hz}$$

Si trovi il valore di T in corrispondenza al quale la potenza media del processo $y(t)$ risulta pari a 2 W.



Soluzione esercizio 5

Il sistema ha risposta impulsiva pari a $\delta(t) + \delta(t - T)$ e risposta in frequenza $H(f) = 1 + e^{-j2\pi fT}$. La densità spettrale di potenza del processo in uscita è data da $S_y(f) = S_x(f) |1 + e^{-j2\pi fT}|^2 = S_x(f) [2 + 2 \cos(2\pi fT)]$.

La potenza media risulta essere:

$$P = 1 \times 10^{-3} \int_{-1/T}^{1/T} [2 + 2 \cos(2\pi fT)] df = 1 \times 10^{-3} \left\{ \frac{4}{T} + 0 \right\} = \frac{4 \times 10^{-3}}{T}$$

Per avere $P = 2$ W dovrà essere $T = 2 \times 10^{-3}$ sec

PROVETTA DI TEORIA DEI SEGNALI ©

18 dicembre 2008

Esercizio N. 1

Un terminale mobile riceve un segnale costituito da due repliche del segnale passa banda $x(t) = Am(t)\cos(2\pi f_0 t)$, ove $m(t)$ è un segnale in banda base e $f_0 = 1 \text{ GHz}$. Le due repliche hanno ampiezze $A_1 = 0.5$ e $A_2 = 1$. Rispetto alla prima, la seconda arriva con un ritardo di $1/6 \text{ ns}$. Calcolare il modulo del rapporto tra la parte in quadratura e l'involuppo naturale del segnale passa banda complessivo ricevuto dal terminale (N.B.: la risposta deve essere un numero).

Soluzione esercizio 1

Il segnale ricevuto ha la seguente espressione:

$$\begin{aligned} x(t) &= \frac{1}{2}m(t)\cos(2\pi 10^9 t) + m(t)\cos\left(2\pi 10^9\left(t - 1/6 \times 10^{-9}\right)\right) \\ &= \frac{1}{2}m(t)\cos(2\pi 10^9 t) + m(t)\cos\left(2\pi 10^9 t - \frac{\pi}{3}\right) \end{aligned}$$

La forma canonica del segnale passa banda è:

$$= m(t)\left[\frac{1}{2} + \frac{1}{2}\right]\cos(2\pi 10^9 t) + m(t)\frac{\sqrt{3}}{2}\sin(2\pi 10^9 t)$$

$$\text{Il rapporto richiesto è: } \frac{|m(t)|\frac{\sqrt{3}}{2}}{|m(t)|\sqrt{1 + \frac{3}{4}}} = \sqrt{\frac{3}{7}} = 0.6547$$

Esercizio N. 2

Un sistema LTI tempo discreto ha la seguente funzione di trasferimento:

$$H(z) = \frac{z-1}{z^2}$$

Dire, giustificando la risposta, se il sistema è causale e se è stabile. Determinare quindi la sua risposta al segnale $x[n] = u[n]$.

Soluzione esercizio 2

La risposta impulsiva del sistema è $h[n] = \delta[n-1] - \delta[n-2]$. Il sistema è causale (è verificata la condizione $h[n] = 0$ per $n < 0$); esso è stabile, poiché la risposta impulsiva è un segnale di durata finita, con valori tutti finiti. La risposta è data da $x[n-1] - x[n-2] = \delta[n-1]$.

Esercizio N. 3

La generica realizzazione di un processo aleatorio è così definita:

$$x(t) = 1 + \text{rect}(t - \alpha)$$

in cui α è una variabile aleatoria uniformemente distribuita tra -5 e 5 .

Calcolare il valor medio del processo per $t = 5$

Soluzione esercizio 3

Nel generico istante t_0 la realizzazione può assumere soltanto due valori: 1 oppure 2. Pertanto il valor medio sarà:

$$m_x(t_0) = 1 \times P[1] + 2 \times P[2] = 1 \times (1 - P[2]) + 2 \times P[2] = 1 + P[2].$$

La probabilità $P[2]$ corrisponde alla probabilità che la variabile α assuma un valore compreso tra $t_0 - \frac{1}{2}$ e $t_0 + \frac{1}{2}$ e quindi:

$$m_x(t_0) = 1 + \int_{t_0-1/2}^{t_0+1/2} \frac{1}{10} \text{rect}\left[\frac{\alpha}{10}\right] d\alpha \Rightarrow m_x(5) = 1 + \frac{1}{10} \int_{4.5}^5 d\alpha = \frac{21}{20}$$

Esercizio N. 4

Sia $m(t)$ un processo aleatorio stazionario in banda base. Si consideri il processo passa banda la cui generica realizzazione è data da:

$$x(t) = A(1 + m(t))\cos(2\pi f_0 t + \phi)$$

in cui A e f_0 sono due costanti e ϕ è una variabile aleatoria, indipendente da $m(t)$, che assume in modo equiprobabile solamente i valori 0 e π .

Calcolare il valor medio e la funzione di auto correlazione di $x(t)$ e dire, giustificando la risposta, se il processo $x(t)$ è stazionario in senso lato.

Soluzione esercizio 4

Calcolo del valor medio:

$$E[A(1 + m(t))\cos(2\pi f_0 t + \phi)] = E[A(1 + m(t))] \times E[\cos(2\pi f_0 t + \phi)]$$

(per l'indipendenza tra $m(t)$ e ϕ)

$$E[A(1+m(t))] \times E[\cos(2\pi f_0 t + \phi)] = A(1+m_m) \times \left\{ \frac{1}{2} \cos(2\pi f_0 t) + \frac{1}{2} \cos(2\pi f_0 t + \pi) \right\} = 0$$

Esso è indipendente da t , quindi il processo potrebbe essere stazionario in senso debole.

Calcolo della funzione di autocorrelazione:

$$\begin{aligned} R_x(t, t + \tau) &= E[A^2(1+m(t))(1+m(t+\tau))\cos(2\pi f_0 t + \phi)\cos(2\pi f_0(t+\tau) + \phi)] \\ &= \underbrace{E[A^2(1+m(t))(1+m(t+\tau))]}_{=A^2(1+R_m(\tau)+2m_m)} \underbrace{E\left[\frac{1}{2}\cos(2\pi f_0(2t+\tau)+2\phi) + \frac{1}{2}\cos(2\pi f_0\tau)\right]}_{=\frac{1}{2}\cos(2\pi f_0(2t+\tau))+\frac{1}{2}\cos(2\pi f_0\tau)} \end{aligned}$$

$$R_x(t, t + \tau) = \frac{A^2}{2}(1+R_m(\tau)+2m_m)\{\cos(2\pi f_0\tau) + \cos(2\pi f_0(2t+\tau))\}$$

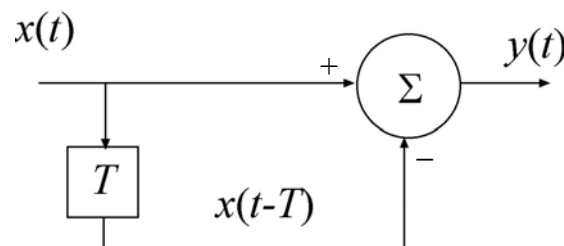
Il processo non è stazionario in senso debole.

Esercizio N. 5

Nella figura seguente $x(t)$ è un processo aleatorio stazionario con con densità spettrale bilatera di potenza pari a:

$$S_x(f) = 1 \times 10^{-3} \times \text{rect}\left[\frac{fT}{2}\right] \text{ W/Hz}$$

Calcolare il rapporto tra la potenza media del processo di uscita e quella del processo di ingresso.



Soluzione esercizio 5

Il sistema ha risposta impulsiva pari a $\delta(t) - \delta(t-T)$ e risposta in frequenza $H(f) = 1 - e^{-j2\pi fT}$. La densità spettrale di potenza del processo in uscita è data da $S_y(f) = S_x(f) |1 - e^{-j2\pi fT}|^2 = S_x(f) [2 - 2\cos(2\pi fT)]$.

La potenza media P_x del processo di ingresso è pari a $1 \times 10^{-3} \times \frac{2}{T}$ W, mentre quella del processo di uscita è:

$$P_y = 1 \times 10^{-3} \int_{-1/T}^{1/T} [2 - 2 \cos(2\pi fT)] df = 1 \times 10^{-3} \left\{ \frac{4}{T} - 0 \right\} = \frac{4 \times 10^{-3}}{T}$$

Pertanto il rapporto $\frac{P_y}{P_x} = 2$

PROVETTA DI TEORIA DEI SEGNALI (d)

18 dicembre 2008

Esercizio N. 1

Un terminale mobile riceve un segnale costituito da due repliche del segnale passa banda $x(t) = Am(t)\cos(2\pi f_0 t)$, ove $m(t)$ è un segnale in banda base e $f_0 = 1 \text{ GHz}$. Le due repliche hanno ampiezze $A_1 = 0.25$ e $A_2 = 1$. Rispetto alla prima, la seconda arriva con un ritardo di $1/2 \text{ ns}$. Calcolare il modulo del rapporto tra la parte in fase e l'involuppo naturale del segnale passa banda complessivo ricevuto dal terminale (N.B.: la risposta deve essere un numero).

Soluzione esercizio 1

Il segnale ricevuto ha la seguente espressione:

$$\begin{aligned} x(t) &= \frac{1}{4}m(t)\cos(2\pi 10^9 t) + m(t)\cos\left(2\pi 10^9\left(t - 1/2 \times 10^{-9}\right)\right) \\ &= \frac{1}{4}m(t)\cos(2\pi 10^9 t) - m(t)\cos(2\pi 10^9 t) \end{aligned}$$

La forma canonica del segnale passa banda è:

$$= m(t)\left[\frac{1}{4} - 1\right]\cos(2\pi 10^9 t)$$

Il rapporto richiesto è ovviamente uguale a 1.

Esercizio N. 2

Un sistema LTI tempo discreto ha la seguente funzione di trasferimento:

$$H(z) = \frac{2z^2 - z - 1}{z^2}$$

Dire, giustificando la risposta, se il sistema è causale e se è stabile. Determinare quindi la sua risposta al segnale $x[n] = u[n]$

Soluzione esercizio 2

La risposta impulsiva del sistema è $h[n] = 2\delta[n] - \delta[n-1] - \delta[n-2]$. Il sistema è causale (è verificata la condizione $h[n] = 0$ per $n < 0$); esso è stabile, poiché la risposta impulsiva è un segnale di durata finita, con valori tutti finiti. La risposta è data da $2x[n] - x[n-1] - x[n-2] = 2u[n] - u[n-1] - u[n-2] = 2\delta[n] + \delta[n-1]$.

Esercizio N. 3

La generica realizzazione di un processo aleatorio è così definita:

$$x(t) = 1 + \text{rect}(t - \alpha)$$

in cui α è una variabile aleatoria uniformemente distribuita tra 0 e 5.

Calcolare il valor medio del processo per $t = 0$

Soluzione esercizio 3

Nel generico istante t_0 la realizzazione può assumere soltanto due valori: 1 oppure 2. Pertanto il valor medio sarà:

$$m_x(t_0) = 1 \times P[1] + 2 \times P[2] = 1 \times (1 - P[2]) + 2 \times P[2] = 1 + P[2].$$

La probabilità $P[2]$ corrisponde alla probabilità che la variabile α assuma un valore compreso tra $t_0 - \frac{1}{2}$ e $t_0 + \frac{1}{2}$ e quindi:

$$m_x(t_0) = 1 + \int_{t_0-1/2}^{t_0+1/2} \frac{1}{5} \text{rect}\left[\frac{\alpha}{5}\right] d\alpha \Rightarrow m_x(0) = 1 + \frac{1}{5} \int_0^{0.5} d\alpha = \frac{11}{10}$$

Esercizio N. 4

Sia $m(t)$ un processo aleatorio stazionario in banda base. Si consideri il processo passa banda la cui generica realizzazione è data da:

$$x(t) = A(1 + m(t))\cos(2\pi f_0 t + \phi)$$

in cui A e f_0 sono due costanti e ϕ è una variabile aleatoria, indipendente da $m(t)$, che assume in modo equiprobabile solamente i 4 valori $0, \frac{\pi}{2}, \pi, 3\frac{\pi}{2}$.

Calcolare il valor medio e la funzione di auto correlazione di $x(t)$ e dire, giustificando la risposta, se il processo $x(t)$ è stazionario in senso lato.

Soluzione esercizio 4

Calcolo del valor medio:

$$E[A(1 + m(t))\cos(2\pi f_0 t + \phi)] = E[A(1 + m(t))] \times E[\cos(2\pi f_0 t + \phi)]$$

(per l'indipendenza tra $m(t)$ e ϕ)

$$E[A(1+m(t))] \times E[\cos(2\pi f_0 t + \phi)] =$$

$$= A(1+m_m) \times \left\{ \frac{1}{4} \cos(2\pi f_0 t) + \frac{1}{4} \cos\left(2\pi f_0 t + \frac{\pi}{2}\right) + \frac{1}{4} \cos(2\pi f_0 t + \pi) + \frac{1}{4} \cos\left(2\pi f_0 t + 3\frac{\pi}{2}\right) \right\} = 0$$

Esso è indipendente da t , quindi il processo potrebbe essere stazionario in senso debole.

Calcolo della funzione di autocorrelazione:

$$R_x(t, t + \tau) = E[A^2(1+m(t))(1+m(t+\tau))\cos(2\pi f_0 t + \phi)\cos(2\pi f_0(t+\tau) + \phi)]$$

$$= \underbrace{E[A^2(1+m(t))(1+m(t+\tau))]}_{=A^2(1+R_m(\tau)+2m_m)} \underbrace{E\left[\frac{1}{2}\cos(2\pi f_0(2t+\tau)+2\phi) + \frac{1}{2}\cos(2\pi f_0\tau)\right]}_{=0+\frac{1}{2}\cos(2\pi f_0\tau)}$$

$$R_x(t, t + \tau) = \frac{A^2}{2}(1+R_m(\tau)+2m_m)\cos(2\pi f_0\tau)$$

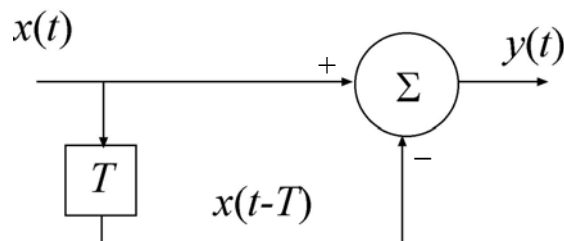
Il processo è stazionario in senso debole.

Esercizio N. 5

Nella figura seguente $x(t)$ è un processo aleatorio stazionario con densità spettrale bilatera di potenza pari a:

$$S_x(f) = 1 \times 10^{-3} \times \text{rect}\left[\frac{f}{2f_M}\right] \text{ W/Hz}$$

Trovare la relazione che deve esistere tra f_M e T affinché la potenza media del processo di uscita risulti metà di quella del processo di ingresso.



Soluzione esercizio 5

Il sistema ha risposta impulsiva pari a $\delta(t) - \delta(t - T)$ e risposta in frequenza $H(f) = 1 - e^{-j2\pi fT}$. La densità spettrale di potenza del processo in uscita è data da $S_y(f) = S_x(f) |1 - e^{-j2\pi fT}|^2 = S_x(f) [2 - 2\cos(2\pi fT)]$.

La potenza media P_x del processo di ingresso è pari a $1 \times 10^{-3} \times 2f_M$ W, mentre quella del processo di uscita è:

$$P_y = 1 \times 10^{-3} \int_{-f_M}^{f_M} [2 - 2 \cos(2\pi fT)] df = 1 \times 10^{-3} \left\{ 4f_M - 4f_M \frac{\sin(2\pi f_M T)}{2\pi f_M T} \right\}$$

Pertanto per avere $\frac{P_y}{P_x} = 0.5$ dovrà essere

$$4f_M - 4f_M \frac{\sin(2\pi f_M T)}{2\pi f_M T} = f_M, \text{ da cui } \frac{\sin(2\pi f_M T)}{2\pi f_M T} = \frac{3}{4}.$$