

Teoria dei Segnali
(Appello del 15 giugno 2004)

Prova scritta

Esercizio N. 1

Calcolare i coefficienti c_0 e c_1 dello sviluppo in serie di Fourier del segnale periodico di figura 1. Assumere $\tau = T/3$.

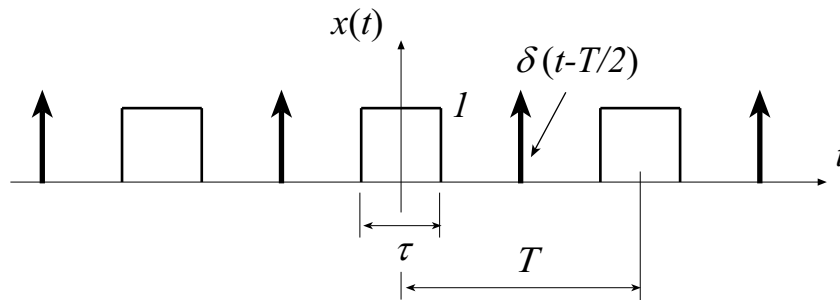


Fig. 1

Soluzione

Il segnale $x(t)$ può essere posto nella forma: $x(t) = \sum_{k=-\infty}^{+\infty} f(t - kT)$, ove

$f(t) = \text{rect}\left(\frac{t}{\tau}\right) + \delta(t - T/2)$. Il generico coefficiente c_n dello sviluppo in serie di Fourier di $x(t)$ è dato da:

$$c_n = \frac{1}{T} F(\omega) \Big|_{\omega = n \frac{2\pi}{T}},$$

essendo $F(\omega)$ la trasformata di Fourier di $f(t)$. Poiché $F(\omega) = \tau \frac{\sin\left(\omega \frac{\tau}{2}\right)}{\omega \frac{\tau}{2}} + e^{-j\omega \frac{T}{2}}$,

risulta:

$$c_0 = \frac{1}{3} + \frac{1}{T} \quad c_1 = \frac{1}{3} \frac{\sin\left(\frac{\pi}{3}\right)}{\frac{\pi}{3}} + \frac{1}{T} e^{-j\pi} = \frac{1}{\pi} \frac{\sqrt{3}}{2} - \frac{1}{T}$$

Esercizio N. 2

La risposta impulsiva di un sistema LTI tempo discreto è pari a $u[n] - u[n-4]$. Al suo ingresso è presente il segnale $x[n] = \delta[n] - \delta[n-1]$. Si calcoli la trasformata di Fourier del segnale di uscita.

Soluzione

Il segnale di uscita è dato da $\delta[n] - \delta[n-4]$. La sua trasformata di Fourier è quindi pari a $1 - e^{-j4\Omega}$.

Esercizio N. 3

Si calcoli l'involuppo complesso e l'involuppo naturale del segnale:

$$x(t) = A \{ \cos[\omega_0 t + m(t)] + \sin[\omega_0 t - m(t)] \}$$

essendo $m(t)$ un segnale a bassa frequenza e a banda limitata.

Soluzione

Si ponga $x(t)$ nella forma canonica, in modo da evidenziare le sue parti in fase e in quadratura:

$$x(t) = A \{ \cos(\omega_0 t) \cos[m(t)] - \sin(\omega_0 t) \sin[m(t)] + \sin(\omega_0 t) \cos[m(t)] - \cos(\omega_0 t) \sin[m(t)] \}$$

$$x(t) = A \cos(\omega_0 t) \{ \cos[m(t)] - \sin[m(t)] \} - A \sin(\omega_0 t) \{ \sin[m(t)] - \cos[m(t)] \}$$

Per quanto riguarda l'involuppo complesso, risulta:

$$\tilde{x}(t) = A \{ \cos[m(t)] - \sin[m(t)] \} + j \{ \sin[m(t)] - \cos[m(t)] \} = A [e^{jm(t)} - j e^{-jm(t)}]$$

mentre l'involuppo naturale è pari a $A\sqrt{2}$.

Esercizio N. 4 (riservato agli studenti della laurea quinquennale)

La funzione di sistema di un sistema LTI tempo discreto è:

$$H(z) = \frac{1 - z^{-1}}{1 - \frac{5}{2}z^{-1} + z^{-2}}$$

Ricavare la risposta impulsiva del sistema, sapendo che esso è stabile.

Soluzione

Scomponendo $H(z)$ in frazioni semplici si ottiene:

$$H(z) = \frac{A}{1-2z^{-1}} + \frac{B}{1-\frac{1}{2}z^{-1}} = \frac{2}{3} \frac{1}{1-2z^{-1}} + \frac{1}{3} \frac{1}{1-\frac{1}{2}z^{-1}}$$

A questa funzione di sistema corrispondono tre risposte impulsive:

- a) $\frac{2}{3}2^n u[n] + \frac{1}{3}\left(\frac{1}{2}\right)^n u[n]$
- b) $-\frac{2}{3}2^n u[-n-1] + \frac{1}{3}\left(\frac{1}{2}\right)^n u[n]$
- c) $\frac{2}{3}2^n u[n] - \frac{1}{3}\left(\frac{1}{2}\right)^n u[-n-1]$

Di queste, solo la *b*) risulta appartenere ad un sistema stabile, essendo di modulo sommabile.

Esercizio N. 5

Si consideri il seguente processo aleatorio associato al lancio di una moneta:

$$\begin{aligned} T &\rightarrow x(t) = \sin(t) \\ C &\rightarrow x(t) = \cos(t) \end{aligned}$$

Il processo è regolare (almeno in senso debole)? (si giustifichi la risposta).
 Si calcoli inoltre il valor medio della funzione di autocorrelazione.

Soluzione

Il valor medio temporale delle due realizzazioni distinte del processo è nullo per entrambe. Per quanto concerne la funzione di autocorrelazione temporale si ha che:

a) $x(t) = \sin(t)$

$$R(\tau) = \lim_{T \rightarrow \infty} \frac{1}{T} \int_{-T/2}^{+T/2} \sin(t) \sin(t + \tau) dt = \frac{1}{2} \cos(\tau)$$

b) $x(t) = \cos(t)$

$$R(\tau) = \lim_{T \rightarrow \infty} \frac{1}{T} \int_{-T/2}^{+T/2} \cos(t) \cos(t + \tau) dt = \frac{1}{2} \cos(\tau)$$

Il processo è regolare. Il processo consiste sempre in una sinusoidale a frequenza $f = \frac{1}{2\pi}$, la cui potenza media è pari a $\frac{1}{2}$. Pertanto la densità spettrale di potenza del processo è costituita da due impulsi ideali di area $\frac{1}{4}$, centrati in $f = \pm \frac{1}{2\pi}$. Il valor medio in t della funzione di autocorrelazione corrisponde (per il teorema di Wiener-Kintchine) all'antitrasformata di Fourier della densità spettrale di potenza. Pertanto:

$$\bar{R}_x(\tau) = \frac{1}{2} \cos(\tau)$$

Esercizio N. 6

Un processo gaussiano bianco ha una densità spettrale di potenza pari a 1W/Hz. Esso è applicato all'ingresso di un sistema la cui risposta impulsiva è:

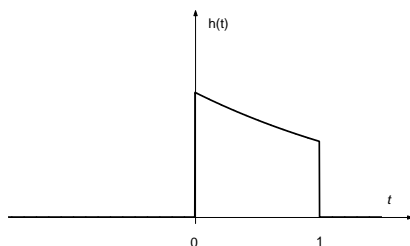
$$h(t) = e^{-\frac{1}{2}t} [u(t) - u(t-1)]$$

Calcolare la funzione di autocorrelazione e la potenza media del processo di uscita.

Soluzione

Il processo all'ingresso del sistema ha una funzione di autocorrelazione pari a $\delta(\tau)$. La funzione di autocorrelazione del processo d'uscita è data da:

$$R_y(\tau) = R_x(\tau) \otimes h(\tau) \otimes h(-\tau) = h(\tau) \otimes h(-\tau)$$

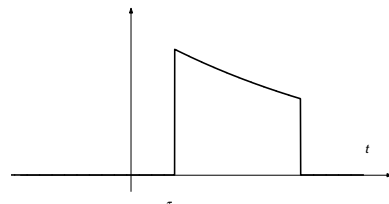


Come risulta dalla figura a lato,

$$R_y(\tau) = \begin{cases} \int_{\tau}^1 e^{-\frac{1}{2}t} e^{-\frac{1}{2}(t-\tau)} dt & \text{per } \tau < 1 \\ 0 & \text{per } \tau > 1 \end{cases}$$

e quindi:

$$R_y(\tau) = \begin{cases} e^{-\frac{1}{2}|\tau|} - e^{-\left(1-\frac{1}{2}|\tau\right)} & \text{per } |\tau| < 1 \\ 0 & \text{per } |\tau| > 1 \end{cases}$$



La potenza media del processo di uscita corrisponde a $R_y(0)$, e quindi è pari a $1 - \frac{1}{e}$.