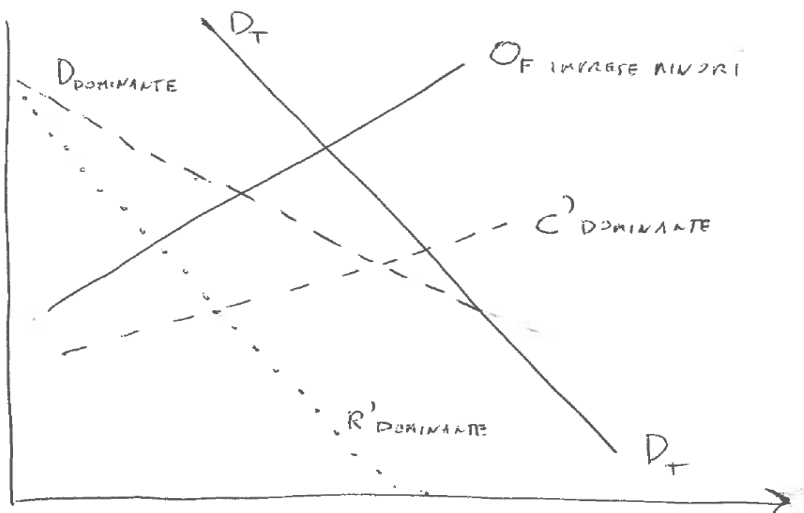


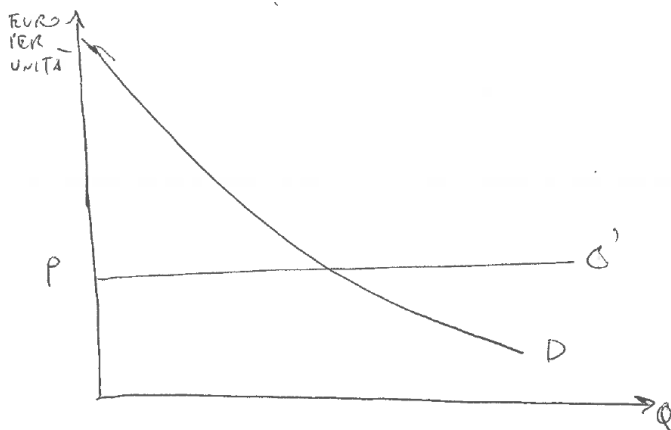
III PROVA DI AUTOVALUTAZIONE – PARTE DOMANDE GENERALI

- 1) Nel caso di mercato caratterizzato dalla presenza di un'impresa capace di comportarsi come "dominante" di prezzo, e dalla presenza di ulteriori imprese minori di tipo "follower" indicare, nella rappresentazione modellizzata che segue, la quantità scelta dall'impresa leader (QL), il prezzo in mercato del prodotto, quella dalle imprese minori rimanenti (QD), date: la funzione di domanda D_T dell'intero mercato, la domanda dell'impresa dominante ($D_{dominante}$), i costi marginali C' dell'impresa dominante e la curva di offerta O_F delle imprese minori.

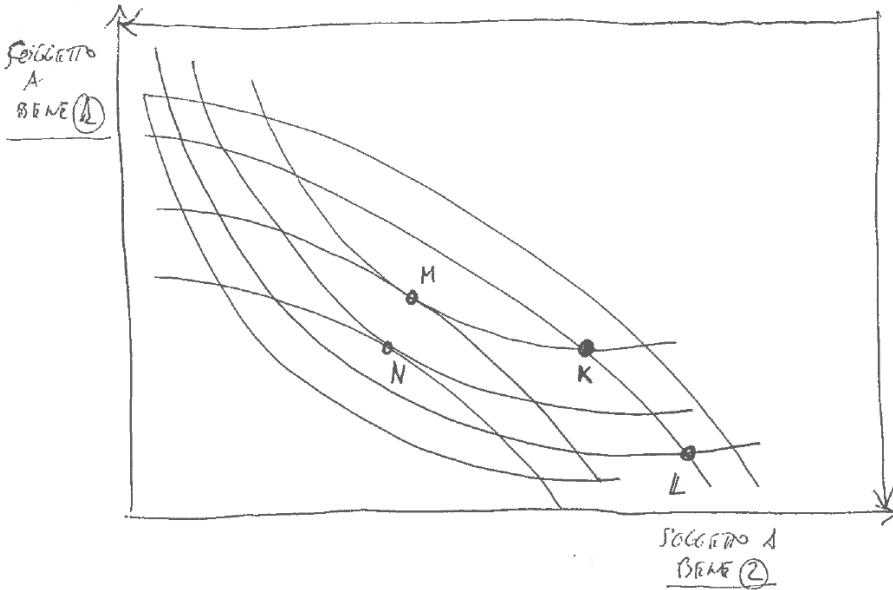
LEADERSHIP DI PREZZO



- 2) Nel caso di un produttore desideroso di offrire, ad un mercato rappresentato dalla domanda D , con una tariffa a due parti (Tariffa fissa di ingresso e prezzo P per unità acquistata), si indichi, nel grafico successivo, con opportuna graficizzazione (punto, area, ecc.) l'entità della "tariffa fissa" ottimale per il produttore



3) Dire, ponendo V o F alla fine della domanda, se ciascuna affermazione è vera o falsa per la scatola di Edgewort descritta qui sotto



- a) Il punto M rappresenta un punto della curva dei contratti, come il punto N
- b) Il punto M è un punto della curva dei contratti ma N non lo è perché per il soggetto B si trova su una curva di indifferenza molto elevata
- c) Il punto L è un punto "pareto efficiente"
- d) Se si passa da L a K nello scambio, il soggetto A aumenta la propria utilità, mentre il soggetto B la riduce
- e) Il punto M è sempre preferito a N, qualunque sia la visione di equità adottata per giudicare l'allocazione

4) Dire, mettendo V o F vicino alle affermazioni, se i cartelli tendono a "tenere" quando:

- a) i produttori in cartello fanno parte di un'organizzazione stabile
- b) le curve di domanda sono molto elastiche e la "torta" del potere monopolistico è ridotta
- c) se la curva di domanda è tendenzialmente anelastica
- d) se si trattano beni strategici come il rame o il petrolio, indipendentemente dalle altre condizioni

5) In generale, in un duopolio, confrontando rispettivamente gli equilibri di Cournot, concorrenziale e collusivo, qual è quello che determina le minori quantità prodotte? E le maggiori?

Quantità minori:
 Quantità maggiori: